

3 Geheimschrift.

oost west thuis best



0 = b  
8 = e  
15 = h  
16 = i  
18 = o  
20 = s  
40 = t  
42 = u  
45 = w

$100 - 82$ <b>18</b>	de helft van <b>36</b>	$110 - 90$ <b>20</b>	$99 - 59$ <b>40</b>
$15 \times 3$ <b>45</b>	$95 + 8$ = 103	$200 - 180$ <b>20</b>	$20 \times 2$ <b>40</b>
$66 + 40$ = 106	$87 + 15$ = 102	$13 + 29$ <b>42</b>	$83 - 67$ <b>16</b>
$19 \times 0$ <b>0</b>	$110 - 102$ <b>8</b>	$57 + 20$ = 77	$99 - 40$ = 139
			$85 + 20$ = 105

4 Een spel voor twee kinderen.


Kies uit: 4 5 6 7 8 9

a Het spel begint bij 0.  
Ben je aan de beurt, dan kies je een getal.  
Tel steeds verder.  
Wie komt precies op 100?

$0 + 8 = 8$   
 $8 + 7 = 15$   
 $15 + 8 = 23$   
 $23 + 9 = \dots$

b Begin bij 100.  
Trek nu steeds een getal eraf.  
Wie komt precies op 0 uit?

$100 - 6 = 94$   
 $94 - 7 = 87$   
 $87 - 9 = 78$   
 $78 - 5 = \dots$



1 Hoe laat is het?



...19.00... uur

...7 uur...  
's avonds



...9.00... uur

...9 uur...  
's morgens



...22.00... uur

...10 uur...  
's avonds



...17.00... uur

...5 uur...  
's middags



...3.00... uur

...3 uur...  
's nachts



...8.30... uur

...half 9...  
's morgens



...18.30... uur

...half 7...  
's avonds



...16.30... uur

...half 5...  
's middags



...1.30... uur

...half 2...  
's nachts



...23.30... uur

...half 12...  
's avonds

2 Vul de tabellen in.

+	10	30	20	50	40
38	48	68	58	88	78
43	53	73	63	93	83

-	20	30	10	40	50
67	47	37	57	27	17
84	64	54	74	44	34

3 Kleur in elke rij de getallen die samen 100 zijn.



of 40 + 35 + 10 + 15



of 64 + 36



of 50 + 45 + 5



of 38 + 12 + 50





4 Hoeveel pakjes in de doos? Maak het kaartje vast aan de goede doos.

27

20

24

30

5 Hoeveel blokken?

22 blokken

28 blokken

24 blokken

28 blokken



## 1 Vul de tabellen in.

+	10	20	+	10	20	-	10	20	-	10	20
15	25	35	23	33	43	35	25	15	92	82	72
32	42	52	56	66	76	48	38	28	87	77	67
47	57	67	72	82	92	64	54	44	79	69	59

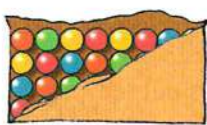
## 2 Hoeveel toverballen? Maak de sommen af.



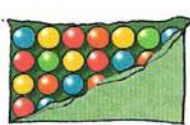
$2 \times 4 = 8$



$4 \times 4 = 16$




$8 \times 4 = 32$



$7 \times 4 = 28$



$3 \times 4 = 12$



$6 \times 4 = 24$

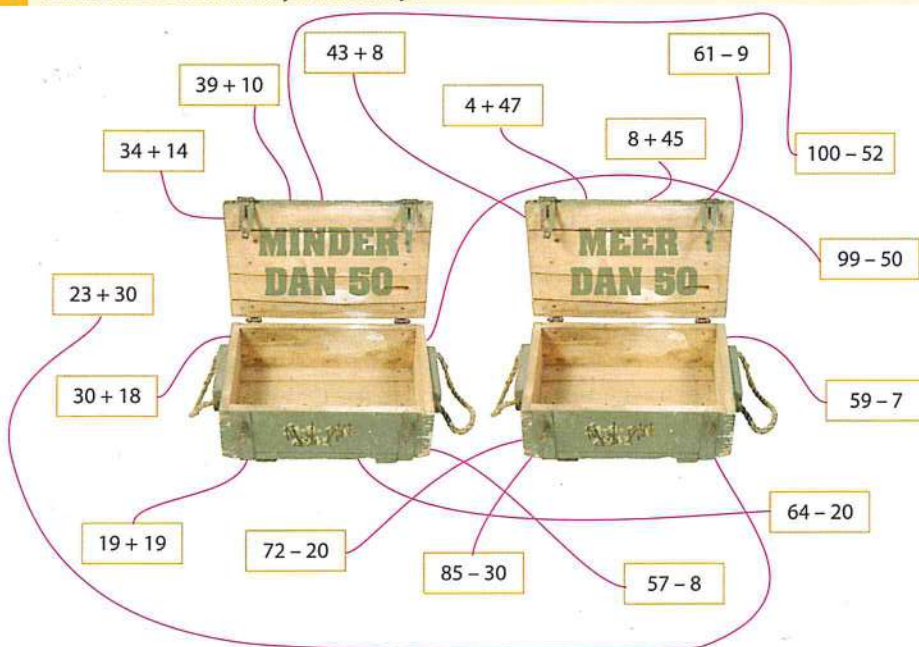


$9 \times 4 = 36$



$5 \times 4 = 20$

## 3 In welke kist hoort het kaartje? Trek een lijn.





3 Hoeveel liter gaat er in?

1 liter? Kleur rood.  
 Meer dan 1 liter? Kleur blauw.  
 Minder dan 1 liter? Kleur geel.



4 Hoeveel liter gaat er in?

Kies uit: 10 liter, 500 000 liter, 1 liter, 40 liter, 5000 liter, 300 liter.



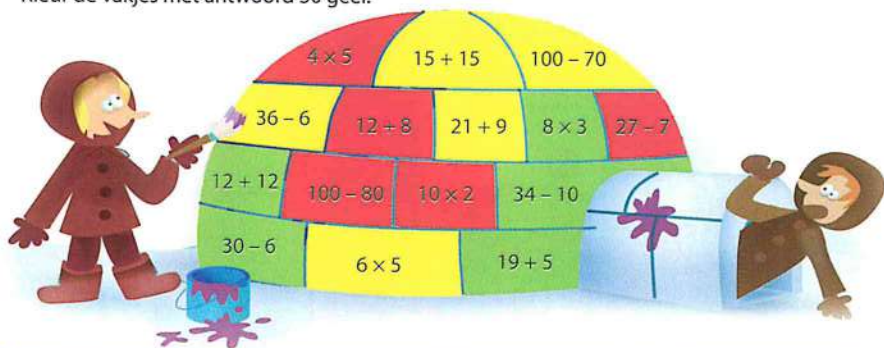


## 1 Reken uit en kleur.

Kleur de vakjes met antwoord 20 rood.

Kleur de vakjes met antwoord 24 groen.

Kleur de vakjes met antwoord 30 geel.



## 2 Vul de tabellen in.

x	3	4	5
1	3	4	5
10	30	40	50
5	15	20	25
9	27	36	45

x	3	4	5
2	6	8	10
4	12	16	20
8	24	32	40
7	21	28	35

x	3	4	5
2	6	8	10
3	9	12	15
6	18	24	30
9	27	36	45

## 3 Wat is meer? Kleur dat vakje.

$8 \times 5$  —  $50 - 11$

$25 - 10$  —  $4 \times 4$

$6 \times 4$  —  $10 + 15$

$51 - 6$  —  $9 \times 4$

$6 \times 3$  —  $7 + 9$

$25 - 6$  —  $9 \times 2$

$7 \times 3$  —  $45 - 20$

$8 + 38$  —  $9 \times 5$

$8 \times 3$  —  $11 + 11$

$15 + 15$  —  $7 \times 4$

$7 \times 2$  —  $55 - 40$

$52 - 8$  —  $7 \times 5$

$9 \times 3$  —  $95 - 70$

$40 - 9$  —  $8 \times 4$

$6 \times 5$  —  $8 + 25$



4 Wat krijg je terug? Teken de munten.

je koopt:	je geeft:	je krijgt terug:
		40 cent
		45 cent
		5 cent
		10 cent
		25 cent

kan op verschillende manieren

5 Wie heeft het meeste geld? Kleur de naam.

a **Yasmini** Zora

b **Vivian** Max

c Eef **Anne**

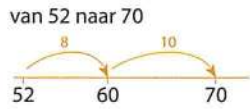
d Karin **Pieter**

e **Siebe** **Geert**

f **Tom** Sanne

Blok 1 Week 4 Extra

1 Hoe spring jij? Teken het op de lege getallenlijn.



kan op verschillende manieren

van 18 naar 30 \_\_\_\_\_  
18

van 27 naar 47 \_\_\_\_\_  
27

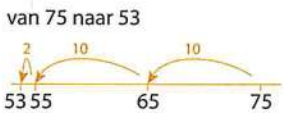
van 44 naar 58 \_\_\_\_\_  
44

van 65 naar 85 \_\_\_\_\_  
65

van 72 naar 96 \_\_\_\_\_  
72



2 Hoe spring jij? Teken het op de lege getallenlijn.



kan op verschillende manieren

van 96 naar 76 \_\_\_\_\_  
96

van 84 naar 62 \_\_\_\_\_  
84

van 50 naar 26 \_\_\_\_\_  
50

van 77 naar 55 \_\_\_\_\_  
77

van 39 naar 12 \_\_\_\_\_  
39

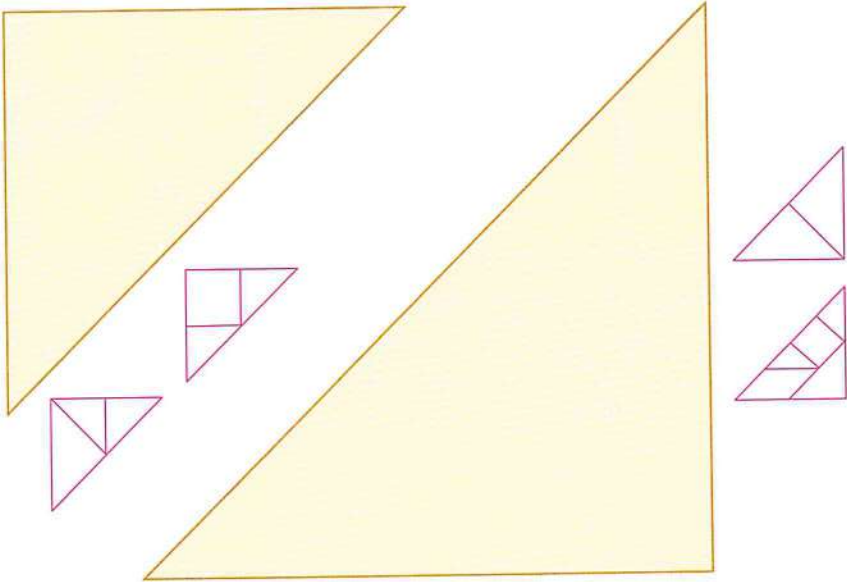




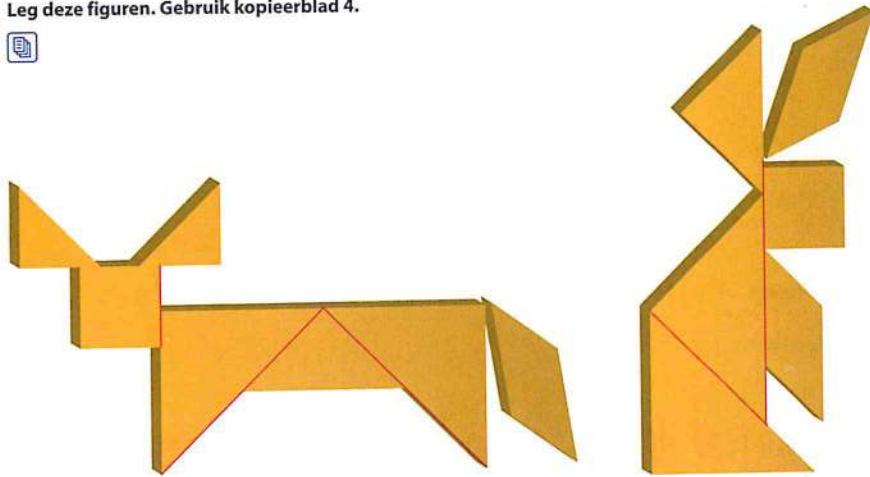
4 Vul de driehoeken. Gebruik kopieerblad 4.



Het kan op verschillende manieren.  
Je hoeft niet alle stukjes te gebruiken.



5 Leg deze figuren. Gebruik kopieerblad 4.



Maak zelf nog een mooi figuur.

## 1 Reken uit en kleur.

Kleur de kistjes met antwoord 18 rood.  
 Kleur de kistjes met antwoord 24 groen.  
 Kleur de kistjes met antwoord 28 geel.

## 2 Hoe laat?

## 3 Vul de tabellen in.

×	5	4	3
10	50	40	30
9	45	36	27
5	25	20	15
6	30	24	18

×	5	4	3
2	10	8	6
3	15	12	9
6	30	24	18
9	45	36	27

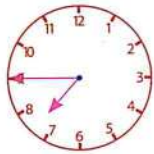
×	5	4	3
2	10	8	6
4	20	16	12
8	40	32	24
7	35	28	21



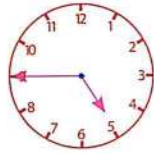
3 Teken de wijzers.



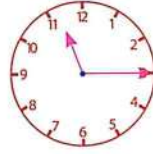
kwart over 4



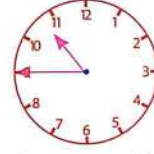
kwart voor 8



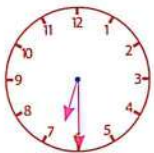
kwart voor 5



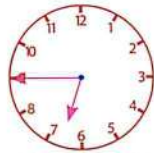
kwart over 11



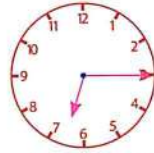
kwart voor 11



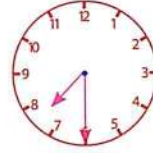
half 7



kwart voor 7



kwart over 7

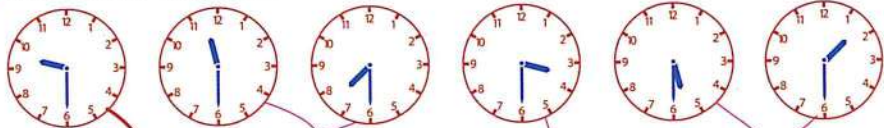


half 8

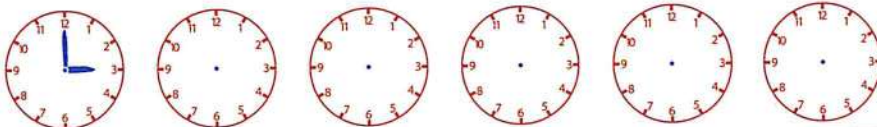


8 uur

4 Welke klokken horen bij elkaar? Trek een lijn.



5 Teken zelf de wijzers. Schrijf de tijd eronder.



3:00					
3 uur 's middags					



Blok 2 Week 2 Extra

1 Zoek de schat bij de kist. Trek een lijn.

Math problems in chests:

- $7 \times 4$
- $60 - 17$
- $55 + 25$
- $19 + 11$
- $7 \times 10$
- $80 - 60$
- $97 - 6$
- $9 \times 2$
- $7 + 8$
- $62 + 17$

Gold coins with numbers:

- 15
- 18
- 91
- 80
- 28
- 79
- 43
- 70
- 30
- 20

Connections (lines drawn):

- $7 \times 4 = 28$
- $60 - 17 = 43$
- $55 + 25 = 80$
- $19 + 11 = 30$
- $7 \times 10 = 70$
- $80 - 60 = 20$
- $97 - 6 = 91$
- $9 \times 2 = 18$
- $7 + 8 = 15$
- $62 + 17 = 79$

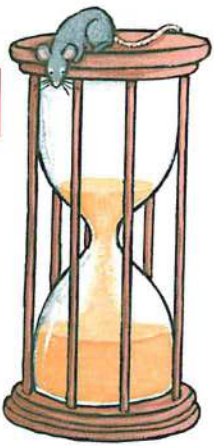
2 Bij welke klok hoort de tijd? Trek een lijn.

Time labels:

- half 12
- 13:00
- half 10
- half 3
- 16:00
- 09:00
- half 9
- kwart over 6

Connections (lines drawn):

- 13:00 to 1:00 (top-left clock)
- half 10 to 10:30 (top-right clock)
- half 3 to 3:30 (middle-left clock)
- 16:00 to 4:00 (middle-right clock)
- 09:00 to 9:00 (bottom-left clock)
- half 9 to 9:30 (bottom-right clock)
- kwart over 6 to 6:15 (bottom-most clock)





3 Hoeveel kistjes heb je nodig?



20 kistjes met 2 goudstukken



10 kistjes met 4 goudstukken



8 kistjes met 5 goudstukken



5 kistjes met 8 goudstukken



4 kistjes met 10 goudstukken



4 Hoeveel kistjes kun je vullen?



Je kunt 6 kistjes vullen.

Er blijven 2 goudstukken over.



Je kunt 7 kistjes vullen.

Er blijven 2 goudstukken over.





1 Vul de tabellen in.

-	4	6	9	3	7
80	76	74	71	77	73
60	56	54	51	57	53

-	2	3	5	6	9
52	50	49	47	46	43
73	71	70	68	67	64

+	4	6	7	9	8
46	50	52	53	55	54
83	87	89	90	92	91



2 Wat is meer? Kleur die som.

25 - 10	4 × 4	6 × 5	7 + 25	10 + 15	6 × 4
9 × 4	41 - 6	7 + 9	6 × 3	9 × 2	27 - 8
39 - 20	7 × 3	9 × 5	7 + 37	18 + 7	8 × 3
7 × 4	36 - 7	35 - 20	7 × 2	7 × 5	45 - 9
38 - 9	9 × 3	8 × 4	40 - 7	7 + 25	6 × 5

3 Reken uit. Kleur de antwoorden in het cijferveld.

- 40 - 14 = 26    6 × 3 = 18    14 + 9 = 23
- 60 - 9 = 51    10 × 5 = 50    6 + 35 = 41
- 90 - 84 = 6    9 × 4 = 36    19 + 13 = 32
- 69 - 23 = 46    9 × 5 = 45    3 + 34 = 37
- 99 - 60 = 39    7 × 3 = 21    19 + 19 = 38
- 50 - 48 = 2    3 × 4 = 12    42 + 14 = 56
- 60 - 13 = 47    6 × 4 = 24    15 + 16 = 31
- 42 - 9 = 33    5 × 2 = 10    6 + 49 = 55
- 60 - 18 = 42    3 × 5 = 15    12 + 13 = 25
- 35 - 8 = 27    8 × 5 = 40

1	2	3	4	5	6	7
8	9	10	11	12	13	14
15	16	17	18	19	20	21
22	23	24	25	26	27	28
29	30	31	32	33	34	35
36	37	38	39	40	41	42
43	44	45	46	47	48	49
50	51	52	53	54	55	56



## 1 Vul de tabellen in.

-	30	35
48	18	13
67	37	32
75	45	40
69	39	34
36	6	1

-	30	37
80	50	43
70	40	33
90	60	53
40	10	3
60	30	23



## 2 Vul de tabellen in.

-	40	43	45	47	49
64	24	21	19	17	15
85	45	42	40	38	36
93	53	50	48	46	44

-	50	53	55	56	59
76	26	23	21	20	17
83	33	30	28	27	24
95	45	42	40	39	36

## 3 In welke doos hoort het kaartje? Trek een lijn.

The exercise shows two boxes: 'minder dan 35' (left) and 'meer dan 35' (right). Lines connect various subtraction problems to the appropriate box based on their results.

**Problems connected to 'minder dan 35':**


- $50 - 12$
- $52 - 14$
- $41 - 7$
- $42 - 9$
- $100 - 69$
- $81 - 39$
- $71 - 39$
- $92 - 55$
- $52 - 19$
- $45 - 8$
- $46 - 9$
- $50 - 18$
- $83 - 55$
- $60 - 23$
- $60 - 27$

**Problems connected to 'meer dan 35':**

- $100 - 62$



3 Welke plattegrond hoort bij het bouwsel? Trek een lijn.



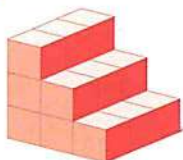
3	2
3	2
2	1

4	4	4
5	4	3
4	3	3

3	2	1
3	2	1
3	2	

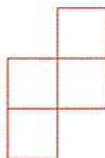
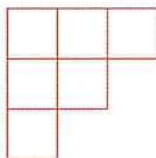
2	3	4
	3	3
		2

4 Bouwsels van 18 blokjes.



3	2	1
3	2	1
3	2	1

Bedenk zelf bouwsels van 18 blokjes.  
Vul de plattegronden in.



5 Bedenk zelf een bouwsel.

Je mag zelf weten hoeveel blokjes je gebruikt.  
Teken de plattegrond hiernaast.

