

1 Reken het verschil uit.

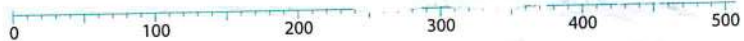


- | | | | |
|----------------|----|----------------|----|
| 51 km en 46 km | 5 | 48 km en 28 km | 20 |
| 17 km en 9 km | 8 | 76 km en 57 km | 19 |
| 34 km en 25 km | 9 | 88 km en 69 km | 19 |
| 63 km en 56 km | 7 | 99 km en 75 km | 24 |
| 95 km en 78 km | 17 | 57 km en 28 km | 29 |

2 In welk parkeervak horen de auto's?

0 - 50	51 - 100	101 - 150	151 - 200	201 - 250	251 - 300
--------	----------	-----------	-----------	-----------	-----------

3 In welk parkeervak horen de auto's?



Maak opgave 2 op pagina 58 van je werkboek.

1 Maak de sommen.

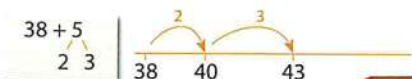
$46 + 4 = 50$
 $78 + 2 = 80$
 $34 + 6 = 40$
 $67 + 3 = 70$
 $53 + 7 = 60$

$80 - 4 = 76$
 $70 - 5 = 65$
 $90 - 6 = 84$
 $60 - 3 = 57$
 $100 - 7 = 93$

$40 - 3 = 37$
 $30 - 2 = 28$
 $20 - 8 = 12$
 $50 - 4 = 46$
 $100 - 6 = 94$



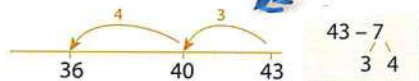
2 Reken uit. Je mag de lege getallenlijn gebruiken.



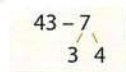
$38 + 5 = 43$
 $29 + 4 = 33$
 $47 + 6 = 53$
 $85 + 7 = 92$
 $19 + 8 = 27$



38 dozen en
nog 5 erbij is...

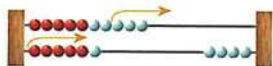


$43 - 7 = 36$
 $56 - 8 = 48$
 $22 - 9 = 13$
 $45 - 8 = 37$
 $91 - 6 = 85$



43 dozen. Ik heb
7 dozen nodig.

3 Maak de erasommen.



$16 - 9 =$

$13 - 5 = 8$
 $15 - 7 = 8$
 $11 - 6 = 5$
 $17 - 8 = 9$
 $14 - 7 = 7$

$14 - 8 = 6$
 $16 - 9 = 7$
 $13 - 7 = 6$
 $12 - 7 = 5$
 $15 - 8 = 7$

$11 - 9 = 2$
 $13 - 8 = 5$
 $16 - 7 = 9$
 $12 - 8 = 4$
 $14 - 9 = 5$

1 Hoe laat is het?

Schrijf het op in woorden.

				
				
a	b	c	d	e
half negen 's morgens	half 12 's morgens	half 3 's middags	half 6 's avonds	half 8 's avonds

Ga verder met opgave 1 op pagina 32 van je werkboek.

2 Hoeveel cent krijg je terug?

Je betaalt met:



a 	b 	c 	d 	e 
25 cent	15 cent	20 cent	35 cent	45 cent
25 cent	35 cent	30 cent	15 cent	5 cent

3 Reken de nieuwe prijzen uit.

a 	b 	c 	d 	e 
€67	€58	€96	€74	€87
a €47	b €38	c €76	d €54	e €67

Uitverkoop: alles € 20 goedkoper.

Ga verder met opgave 2 op pagina 32 van je werkboek.

4 Tussen welke tientallen ligt het getal?

40	44	50	50	54	60	20	26	30
30	39	40	20	22	30	40	47	50
70	75	80	30	31	40	50	59	60
10	17	20	60	68	70	80	86	90
90	92	100	80	84	90	70	72	80



5 Maak de keersommen.

$2 \times 2 = 4$	$10 \times 4 = 40$	$5 \times 5 = 25$	$5 \times 3 = 15$
$4 \times 2 = 8$	$9 \times 4 = 36$	$10 \times 5 = 50$	$10 \times 3 = 30$
$8 \times 2 = 16$	$6 \times 4 = 24$	$9 \times 5 = 45$	$9 \times 3 = 27$
$10 \times 2 = 20$	$8 \times 4 = 32$	$7 \times 5 = 35$	$8 \times 3 = 24$
$9 \times 2 = 18$	$7 \times 4 = 28$	$8 \times 5 = 40$	$7 \times 3 = 21$



6 Reken uit. Je mag de lege getallenlijn gebruiken.



$35 + 9 = 44$	$24 + 8 = 32$	$62 - 7 = 55$	$81 - 7 = 74$
$59 + 6 = 65$	$18 + 7 = 25$	$74 - 6 = 68$	$54 - 6 = 48$
$68 + 8 = 76$	$86 + 8 = 94$	$31 - 6 = 25$	$22 - 8 = 14$
$44 + 7 = 51$	$79 + 5 = 84$	$43 - 5 = 38$	$84 - 9 = 75$
$27 + 5 = 32$	$55 + 7 = 62$	$92 - 8 = 84$	$35 - 7 = 28$



1 Kleur in elke rij de getallen die samen 100 zijn.

3 Kleur in elke rij de getallen die samen 100 zijn.



Maak opgave 3 op pagina 32 van je werkboek.

2 Puzzelsommen.

$10 - 4 = 12 - 6$	$8 - 3 = 10 - 5$	$12 - 4 = 10 - 2$
$16 - 3 = 18 - 5$	$14 - 5 = 12 - 3$	$18 - 9 = 17 - 8$
$22 - 3 = 20 - 1$	$18 - 9 = 19 - 10$	$20 - 4 = 18 - 2$
$11 - 9 = 12 - 10$	$25 - 4 = 26 - 5$	$16 - 8 = 12 - 4$
$14 - 7 = 17 - 10$	$14 - 9 = 15 - 10$	$27 - 3 = 28 - 4$



3 Wat krijg je terug? Bedenk drie manieren.



er zijn meerdere oplossingen



1 Wat zit er in je spaarpot?



a Je krijgt er 20 euro bij. €57



b Je krijgt er 20 euro bij. €84



c Je haalt er 20 euro uit. €33

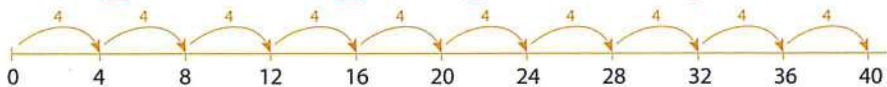


d Je haalt er 20 euro uit. €72

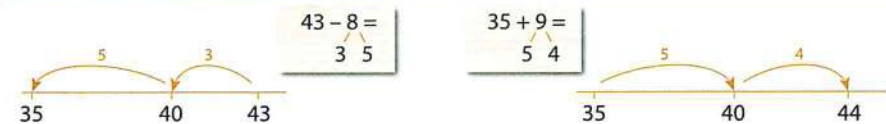
Ga verder met opgave 1 en 2 op pagina 34 van je werkboek.

2 De tafel van 4.

- | | | | |
|-------------------|--------------------|--------------------|-------------------|
| $1 \times 4 = 4$ | $6 \times 4 = 24$ | $4 \times 4 = 16$ | $5 \times 4 = 20$ |
| $2 \times 4 = 8$ | $7 \times 4 = 28$ | $10 \times 4 = 40$ | $1 \times 4 = 4$ |
| $3 \times 4 = 12$ | $8 \times 4 = 32$ | $2 \times 4 = 8$ | $8 \times 4 = 32$ |
| $4 \times 4 = 16$ | $9 \times 4 = 36$ | $9 \times 4 = 36$ | $3 \times 4 = 12$ |
| $5 \times 4 = 20$ | $10 \times 4 = 40$ | $6 \times 4 = 24$ | $7 \times 4 = 28$ |

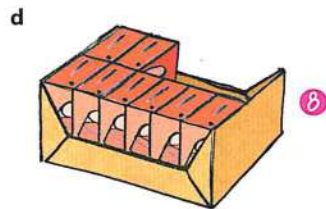
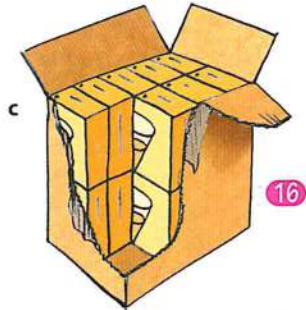
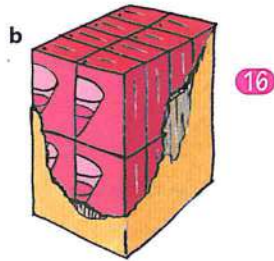
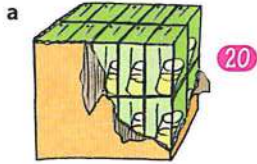


3 Reken uit. Je mag de lege getallenlijn gebruiken.



- | | |
|---------------|---------------|
| $43 - 8 = 35$ | $35 + 9 = 44$ |
| $24 - 7 = 17$ | $48 + 5 = 53$ |
| $44 - 6 = 38$ | $17 + 7 = 24$ |
| $51 - 6 = 45$ | $57 + 6 = 63$ |
| $34 - 7 = 27$ | $25 + 8 = 33$ |

1 Hoeveel pakken?



2 Tel terug met sprongen van 10.

15	25	35	45	55	65
34	44	54	64	74	84
47	57	67	77	87	97
29	39	49	59	69	79
42	52	62	72	82	92



3 Wat staat er onder de sneeuwbal?

$30 - 2 = 28$

$20 - 3 = 17$

$40 - 4 = 36$

$90 - 6 = 84$

$50 - 7 = 43$

$30 - 4 = 26$

$80 - 2 = 78$

$50 - 8 = 42$

$60 - 3 = 57$

$70 - 7 = 63$

$40 - 6 = 34$

$70 - 2 = 68$

$90 - 4 = 86$

$80 - 7 = 73$

$60 - 5 = 55$

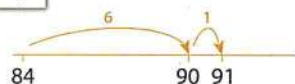
4 De tafel van 4.

$2 \times 4 = 8$	$3 \times 4 = 12$	$4 \times 4 = 16$	$2 \times 4 = 8$
$4 \times 4 = 16$	$6 \times 4 = 24$	$6 \times 4 = 24$	$10 \times 4 = 40$
$8 \times 4 = 32$	$9 \times 4 = 36$	$8 \times 4 = 32$	$9 \times 4 = 36$
$10 \times 4 = 40$	$7 \times 4 = 28$	$3 \times 4 = 12$	$7 \times 4 = 28$
$5 \times 4 = 20$	$0 \times 4 = 0$	$5 \times 4 = 20$	$1 \times 4 = 4$

5 Reken uit. Je mag de lege getallenlijn gebruiken.

$$\begin{array}{r} 72 - 9 = \\ \underline{27} \end{array}$$

$$\begin{array}{r} 84 + 7 = \\ \underline{61} \end{array}$$




$72 - 9 = 63$	$55 - 8 = 47$	$84 + 7 = 91$	$19 + 9 = 28$
$52 - 8 = 44$	$44 - 7 = 37$	$57 + 6 = 63$	$37 + 7 = 44$
$65 - 9 = 56$	$94 - 7 = 87$	$65 + 9 = 74$	$27 + 8 = 35$
$71 - 5 = 66$	$37 - 9 = 28$	$78 + 5 = 83$	$48 + 5 = 53$
$83 - 6 = 77$	$23 - 6 = 17$	$34 + 8 = 42$	$52 + 5 = 57$

6 Wat is de nieuwe prijs?

Overall gaat 20 euro af!

a  €54 €34	b  €48 €28	c  €39 €19	d  €57 €37
e  €67 €47	f  €79 €59	g  €86 €66	h  €98 €78

 Ga verder met opgave 3 op pagina 34 van je werkboek.



1 Maak bij elk antwoord drie sommen: \times , $+$ en $-$.

er zijn meerdere mogelijkheden

24 6×4
 $10 + 14$
 $30 - 6$

36

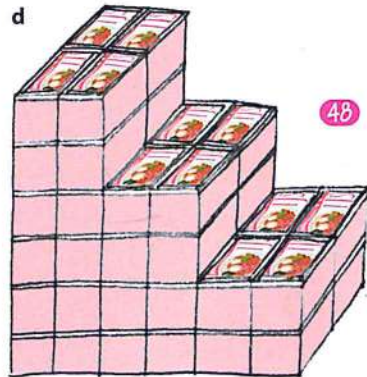
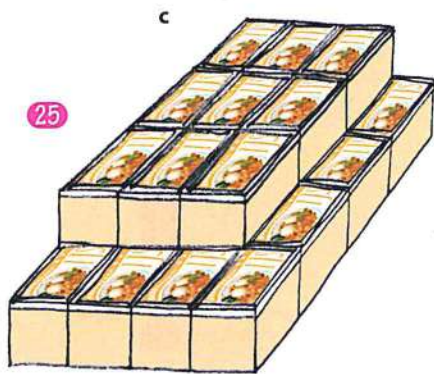
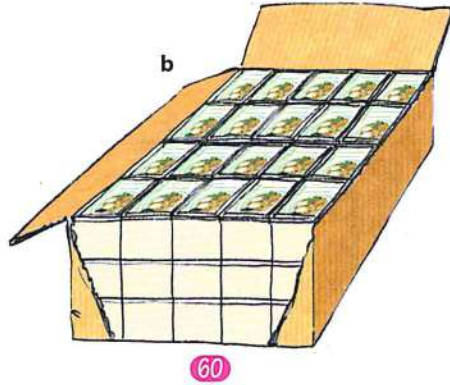
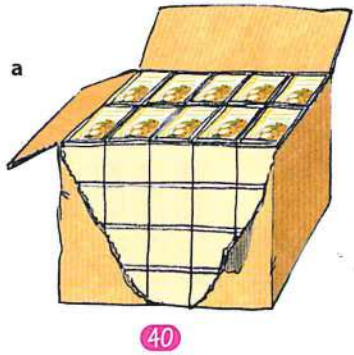
60

48

80

90

2 Hoeveel bakjes?



1 Tel terug met sprongen van 10.



2 Maak de sommen.

Ik heb 6 dozen nodig.



- $54 - 6 = 48$
- $43 - 8 = 35$
- $61 - 7 = 54$
- $32 - 9 = 23$
- $63 - 5 = 58$

Ik zet er nog 5 dozen bij.



- $49 + 5 = 54$
- $56 + 6 = 62$
- $37 + 8 = 45$
- $65 + 9 = 74$
- $84 + 7 = 91$

3 Maak de keersommen.

- | | | |
|-------------------|-------------------|-------------------|
| $2 \times 2 = 4$ | $5 \times 3 = 15$ | $3 \times 5 = 15$ |
| $4 \times 2 = 8$ | $3 \times 3 = 9$ | $6 \times 5 = 30$ |
| $8 \times 2 = 16$ | $6 \times 3 = 18$ | $7 \times 5 = 35$ |
| $9 \times 2 = 18$ | $7 \times 3 = 21$ | $9 \times 5 = 45$ |
| $7 \times 2 = 14$ | $8 \times 3 = 24$ | $8 \times 5 = 40$ |

Ga verder met opgave 1 op pagina 36 van je werkboek.

1 Meer, minder of precies 1 liter?

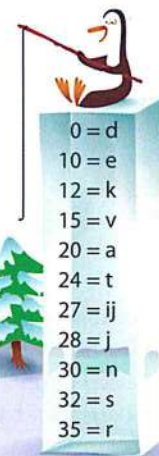


2 Maak de sommen.

$56 - 40 = 16$	$84 - 30 = 54$	$44 + 30 = 74$	$51 + 20 = 71$
$81 - 30 = 51$	$77 - 20 = 57$	$57 + 20 = 77$	$42 + 40 = 82$
$97 - 20 = 77$	$68 - 40 = 28$	$88 + 10 = 98$	$73 + 20 = 93$
$75 - 40 = 35$	$95 - 10 = 85$	$35 + 40 = 75$	$66 + 10 = 76$
$49 - 10 = 39$	$36 - 30 = 6$	$26 + 30 = 56$	$37 + 30 = 67$

3 Geheimschrift.

d	a	a	r
9×0	2×10	10×2	7×5
s	t	a	j
8×4	6×4	5×4	7×4
v	a	n	e
5×3	4×5	3×10	8×3
k	ij	k	e
3×4	9×3	4×3	10×1
			6×5



Ga verder met opgave 2 op pagina 36 van je werkboek.



4 Hoeveel auto's staan er nog?



a er staan:	er rijden weg:	er staan nog:
65 auto's	9 auto's	56 auto's
92 auto's	8 auto's	84 auto's
46 auto's	7 auto's	39 auto's
51 auto's	6 auto's	45 auto's
33 auto's	5 auto's	28 auto's

b er staan:	er rijden weg:	er staan nog:
72 auto's	8 auto's	64 auto's
84 auto's	6 auto's	78 auto's
96 auto's	9 auto's	87 auto's
53 auto's	7 auto's	46 auto's
67 auto's	9 auto's	58 auto's

5 Reken uit.

$40 - 40 = 0$
 $40 - 38 = 2$
 $70 - 70 = 0$
 $70 - 69 = 1$
 $70 - 67 = 3$

$20 - 18 = 2$
 $30 - 29 = 1$
 $50 - 47 = 3$
 $60 - 59 = 1$
 $80 - 77 = 3$

$80 - 76 = 4$
 $90 - 89 = 1$
 $80 - 78 = 2$
 $90 - 87 = 3$
 $100 - 98 = 2$

6 Hoeveel euro kost het?



Nu met korting!

bal + skibril	€54	Met €10 korting op de skibril.	€44
skibril + handschoenen	€36	Met €10 korting op de handschoenen.	€26
schaatsen + skibril	€92	Met €20 korting op de schaatsen.	€72
ijshockeystick + bal	€64	Met €20 korting op de stick.	€44

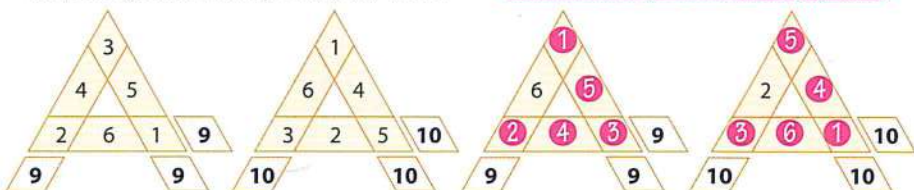
Ga verder met opgave 3 op pagina 36 van je werkboek.



1 Teken zelf toverdriehoeken van 9 en 10 in je schrift.

Met deze getallen maak je ze: 1, 2, 3, 4, 5, 6.

door te draaien zijn er meerdere mogelijkheden



2 Wat is zwaarder dan 1 kilogram?



3 Maak woorden. Tel de punten.

a Maak woorden met de letters uit het lijstje. Voor elke letter krijg je punten. Voorbeeld: *dun* = 4 + 8 + 2 = 14 punten.

b Maak een woord met heel veel punten.

er zijn allerlei mogelijkheden

a = 3 n = 2
d = 4 o = 4
e = 2 r = 5
g = 5 t = 6
i = 7 u = 8

1 Reken handig uit.


$2 \times 2 = 4$	$4 \times 4 = 16$	$10 \times 5 = 50$	$4 \times 3 = 12$
$4 \times 2 = 8$	$8 \times 4 = 32$	$9 \times 5 = 45$	$8 \times 3 = 24$
$8 \times 2 = 16$	$4 \times 8 = 32$	$5 \times 9 = 45$	$9 \times 3 = 27$
$2 \times 8 = 16$	$7 \times 4 = 28$	$8 \times 5 = 40$	$10 \times 3 = 30$
$7 \times 2 = 14$	$6 \times 4 = 24$	$4 \times 5 = 20$	$7 \times 3 = 21$


2 Maak de sommen.


$27 + 10 = 37$	$43 + 10 = 53$	$56 + 10 = 66$	$74 + 10 = 84$
$27 + 20 = 47$	$43 + 20 = 63$	$56 + 20 = 76$	$74 + 20 = 94$
$38 - 10 = 28$	$64 - 10 = 54$	$83 - 10 = 73$	$96 - 10 = 86$
$38 - 20 = 18$	$64 - 20 = 44$	$83 - 20 = 63$	$96 - 20 = 76$


 Ga verder met opgave 1 op pagina 38 van je werkboek.


3 Hoeveel cent zit er in elke portemonnee?


a  38 cent


b  65 cent


c  78 cent

d  67 cent

e  48 cent

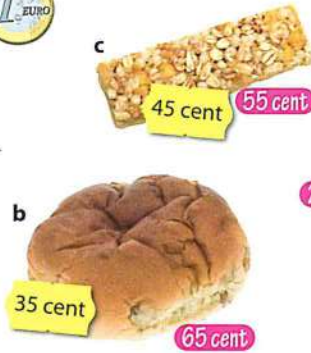
f  67 cent

g  34 cent

h  75 cent

1 Hoeveel krijg je terug?

Je geeft steeds:



2 Waar of niet waar?

- a Januari heeft 30 dagen. niet waar
- b Vóór juli komt augustus. niet waar
- c Juni komt na mei. waar
- d Na de winter komt de lente. waar
- e Augustus heeft 31 dagen. waar
- f Na vrijdag komt zaterdag. waar
- g April komt na februari. niet waar
- h 4 maanden hebben 30 dagen. waar
- i De achtste maand is augustus. waar
- j Februari is in de lente. niet waar



3 Maak de erafsommen.

- | | | | |
|---------------|---------------|---------------|---------------|
| $30 - 30 = 0$ | $40 - 40 = 0$ | $80 - 78 = 2$ | $20 - 18 = 2$ |
| $30 - 29 = 1$ | $40 - 38 = 2$ | $80 - 77 = 3$ | $20 - 17 = 3$ |
| $30 - 28 = 2$ | $40 - 37 = 3$ | $90 - 90 = 0$ | $50 - 50 = 0$ |
| $60 - 60 = 0$ | $70 - 69 = 1$ | $90 - 88 = 2$ | $50 - 48 = 2$ |
| $60 - 58 = 2$ | $70 - 68 = 2$ | $90 - 87 = 3$ | $50 - 47 = 3$ |

Ga verder met opgave 2 op pagina 38 van je werkboek.

4 Maak de sommen.



- | | | | |
|--------------|--------------|--------------|---------------|
| $8 + 5 = 13$ | $7 + 8 = 15$ | $4 + 7 = 11$ | $17 - 9 = 8$ |
| $13 - 5 = 8$ | $15 - 8 = 7$ | $11 - 7 = 4$ | $9 + 8 = 17$ |
| $8 + 8 = 16$ | $7 + 7 = 14$ | $6 + 6 = 12$ | $9 + 9 = 18$ |
| $16 - 8 = 8$ | $14 - 7 = 7$ | $12 - 6 = 6$ | $18 - 9 = 9$ |
| $16 - 9 = 7$ | $14 - 8 = 6$ | $12 - 7 = 5$ | $18 - 10 = 8$ |

5 Reken handig uit.

- | | |
|--------------------|--------------------|
| $10 \times 2 = 20$ | $10 \times 4 = 40$ |
| $9 \times 2 = 18$ | $5 \times 4 = 20$ |
| $5 \times 2 = 10$ | $9 \times 4 = 36$ |
| $6 \times 2 = 12$ | $8 \times 4 = 32$ |
| $8 \times 2 = 16$ | $7 \times 4 = 28$ |

6 Korting. Wat zijn de nieuwe prijzen?

Alles met € 20 korting!

a  €48 €36
 €28
 b  €56
 €44
 c  €64 €19
 d  €39
 e  €77 €57

Alles met € 30 korting!

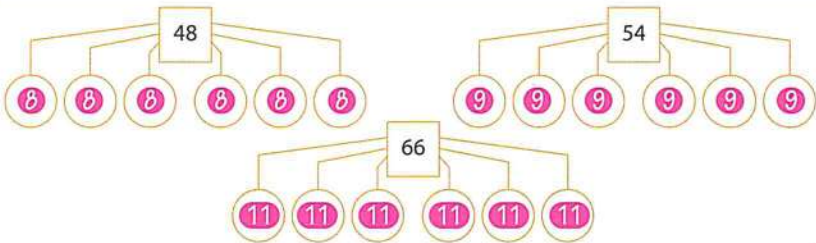
f  €69 €39
 g  €85
 h  €78 €55
 i  €94 €64
 j  €73 €43

Alles met € 40 korting!

k  €96 €56
 l  €87 €47
 n  €84 €44
 m  €79 €39
 o  €98 €58

☆☆ Taak Week 4

1 Splitsen: evenveel in de zes rondjes.

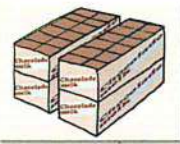


2 Wat koop je bij de bakker?

Je hebt 2 euro.
Wat koop je?
Maak 3 lijstjes.



3 Hoeveel pakken chocolademelk zijn er verkocht?



Zoveel pakken chocolademelk staan er in de winkel.

a 6

b 11

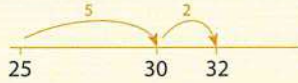
c 13

d 26

e 14

1 Maak de erbijsommen.

$$\begin{array}{r} 25 + 7 = \\ 5 \quad 2 \end{array}$$



$4 + 9 = 13$

$44 + 8 = 52$

$87 + 7 = 94$

$3 + 8 = 11$

$67 + 5 = 72$

$49 + 6 = 55$

$7 + 6 = 13$

$35 + 9 = 44$

$38 + 9 = 47$

$8 + 7 = 15$

$78 + 7 = 85$

$19 + 8 = 27$

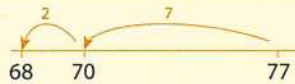
$9 + 9 = 18$

$59 + 8 = 67$

$26 + 9 = 35$



2 Maak de erafsommen.



$$\begin{array}{r} 77 - 9 = \\ 7 \quad 2 \end{array}$$

$14 - 7 = 7$

$42 - 9 = 33$

$82 - 5 = 77$

$11 - 8 = 3$

$34 - 6 = 28$

$37 - 9 = 28$

$12 - 5 = 7$

$51 - 9 = 42$

$43 - 6 = 37$

$16 - 9 = 7$

$63 - 7 = 56$

$52 - 7 = 45$

$15 - 6 = 9$

$95 - 8 = 87$

$61 - 8 = 53$

3 Maak de sommen.

$26 + 10 = 36$

$18 + 20 = 38$

$54 - 10 = 44$

$68 - 20 = 48$

$52 + 10 = 62$

$65 + 20 = 85$

$37 - 10 = 27$

$29 - 20 = 9$

$47 + 10 = 57$

$34 + 20 = 54$

$98 - 10 = 88$

$33 - 20 = 13$

$73 + 10 = 83$

$61 + 20 = 81$

$86 - 10 = 76$

$55 - 20 = 35$

$39 + 10 = 49$

$76 + 20 = 96$

$73 - 10 = 63$

$47 - 20 = 27$



4 Schrijf de antwoorden op.

+	10	20
38	48	58
45	55	65
17	27	37
24	34	44

-	10	20
75	65	55
82	72	62
67	57	47
58	48	38



5 Reken handig uit.

$4 \times 2 = 8$

$8 \times 2 = 16$

$10 \times 2 = 20$

$9 \times 2 = 18$

$2 \times 9 = 18$

$3 \times 3 = 9$

$6 \times 3 = 18$

$7 \times 3 = 21$

$10 \times 3 = 30$

$9 \times 3 = 27$

$10 \times 5 = 50$

$9 \times 5 = 45$

$8 \times 5 = 40$

$5 \times 5 = 25$

$4 \times 5 = 20$




6 Schrijf de antwoorden op.

×	2	3
10	20	30
3	6	9
4	8	12
5	10	15
8	16	24

×	5	10
2	10	20
4	20	40
8	40	80
6	30	60
5	25	50



1 Hoeveel blokken tel je?



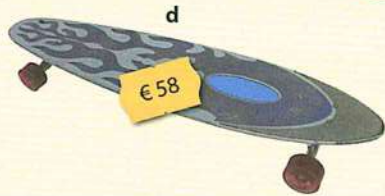


2 Hoe betaal je? Teken het geld in je schrift.

Kies uit:



er zijn meerdere mogelijkheden



3 Hoeveel euro krijg je terug?

je geeft:	je moet betalen:	je krijgt terug:
40 euro	€ 29	11 euro
60 euro	€ 45	15 euro
30 euro	€ 22	8 euro
80 euro	€ 69	11 euro
100 euro	€ 75	25 euro

b Betaal gepast. Teken het geld in je schrift.

Kies uit:



45 cent

29 cent

92 cent

58 cent

87 cent

er zijn meerdere mogelijkheden



1 Maak de sommen.



- 44 + 9 = 53
- 23 - 6 = 17
- 93 - 7 = 86
- 59 + 8 = 67
- 32 - 9 = 23
- 84 - 9 = 75
- 67 + 7 = 74
- 51 - 7 = 44
- 35 - 8 = 27
- 88 + 5 = 93
- 64 - 8 = 56
- 61 - 6 = 55
- 76 + 9 = 85
- 75 - 9 = 66
- 46 - 9 = 37

2 Schrijf de antwoorden op.

+	5	6	8	7	9
57	62	63	65	64	66
65	70	71	73	72	74
76	81	82	84	83	85

-	4	6	9	8	5
84	80	78	75	76	79
92	88	86	83	84	87
71	67	65	62	63	66



3 Maak de sommen.

- 54 + 20 = 74
- 42 + 30 = 72
- 83 - 20 = 63
- 71 - 40 = 31
- 67 + 30 = 97
- 73 + 10 = 83
- 56 - 30 = 26
- 96 - 10 = 86
- 88 + 10 = 98
- 26 + 40 = 66
- 79 - 10 = 69
- 65 - 30 = 35
- 36 + 40 = 76
- 85 + 10 = 95
- 47 - 40 = 7
- 34 - 20 = 14
- 19 + 20 = 39
- 61 + 20 = 81
- 62 - 30 = 32
- 88 - 20 = 68



4 Schrijf de antwoorden op.

+	10	20	30	40	50
33	43	53	63	73	83
29	39	49	59	69	79

+	20	40	10	30	50
41	61	81	51	71	91
35	55	75	45	65	85

-	10	20	30	40	50
66	56	46	36	26	16
98	88	78	68	58	48

-	20	40	10	30	50
79	59	39	69	49	29
85	65	45	75	55	35

5 Reken handig uit.

$3 \times 3 = 9$

$2 \times 4 = 8$

$10 \times 5 = 50$

$6 \times 3 = 18$

$4 \times 4 = 16$

$5 \times 5 = 25$

$10 \times 3 = 30$

$8 \times 4 = 32$

$6 \times 5 = 30$

$9 \times 3 = 27$

$10 \times 4 = 40$

$5 \times 6 = 30$

$3 \times 9 = 27$

$9 \times 4 = 36$

$7 \times 5 = 35$

6 Maak de keersommen.

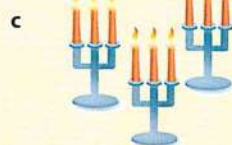


$5 \times 2 = 10$ blikken

$2 \times 5 = 10$




$3 \times 4 = 12$ boeken



$3 \times 3 = 9$ kaarsen



$4 \times 10 = 40$ personen



$4 \times 2 = 8$ bobsleeërs



1 Maak bij elk antwoord drie sommen: \times , $-$ en $+$.

36	24	40	48	70	100
----	----	----	----	----	-----

6×6
 $20 + 16$
 $50 - 14$

er zijn meerdere mogelijkheden

2 Wat kun je kiezen?

Je hebt een prijs van € 100 gewonnen.

Wat kun je kiezen?

Het kan op verschillende manieren.

Voorbeeld: $\text{€ } 25 + \text{€ } 45 + \text{€ } 22 = \text{€ } 92$



er zijn meerdere mogelijkheden

3 Rekenen met getalkaartjes.

Je hebt deze kaartjes:



- a Tel alle getallen op. **45**
- b Maak 3 groepjes van 3 getallen die samen 15 zijn. **$1+9+5$, $2+6+7$, $3+4+8$**
Je mag de getallen maar één keer gebruiken.

4 Rekenen met getalkaartjes.

Je hebt deze kaartjes:

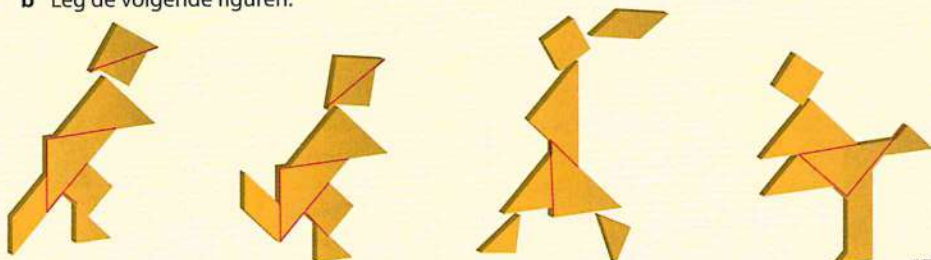


- a Tel alle getallen op. **90**
- b Maak 3 groepjes van 3 getallen die samen 30 zijn. **$6+14+10$, $7+11+12$, $8+9+13$**
Je mag de getallen maar één keer gebruiken.



5 Tangram.

- a Knip de tangramstukken op kopieerblad 4 uit.
- b Leg de volgende figuren:



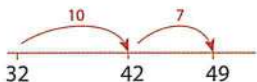


1 Reken handig uit.

$3 \times 3 = 9$	$2 \times 4 = 8$	$4 \times 5 = 20$
$6 \times 3 = 18$	$4 \times 4 = 16$	$8 \times 5 = 40$
$9 \times 3 = 27$	$8 \times 4 = 32$	$9 \times 5 = 45$
$8 \times 3 = 24$	$7 \times 4 = 28$	$5 \times 9 = 45$
$3 \times 8 = 24$	$6 \times 4 = 24$	$7 \times 5 = 35$

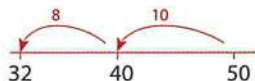
2 Reken uit.

$32 + 17 =$

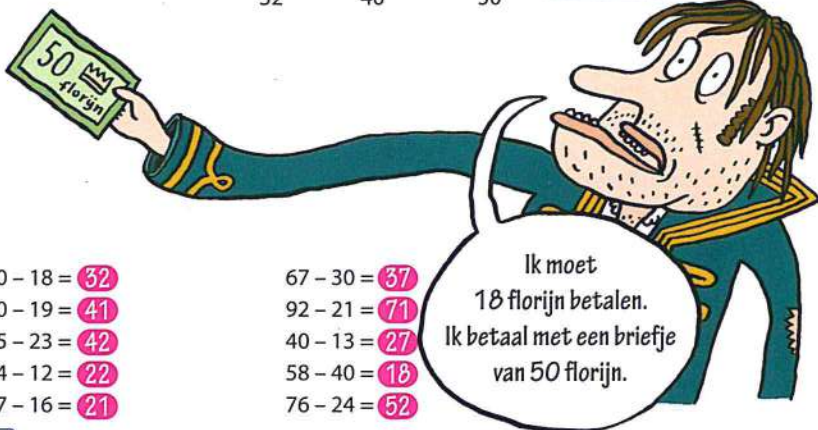


$32 + 17 = 49$	$48 + 21 = 69$
$20 + 14 = 34$	$70 + 19 = 89$
$54 + 12 = 66$	$18 + 41 = 59$
$40 + 24 = 64$	$57 + 22 = 79$
$35 + 14 = 49$	$42 + 26 = 68$

3 Maak de erafsommen.



$50 - 18 = 32$



$50 - 18 = 32$	$67 - 30 = 37$
$60 - 19 = 41$	$92 - 21 = 71$
$65 - 23 = 42$	$40 - 13 = 27$
$34 - 12 = 22$	$58 - 40 = 18$
$37 - 16 = 21$	$76 - 24 = 52$

Ga verder met opgave 1 op pagina 40 van je werkboek.

1 Hoe laat is het? Schrijf het op in woorden.



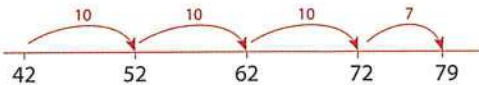


Ga verder met opgave 2 op pagina 40 van je werkboek.

2 Hoeveel samen?



$$42 + 37 = 79$$



$31 + 28 = 59$

$23 + 15 = 38$

$65 + 20 = 85$

$44 + 43 = 87$

$50 + 27 = 77$

$56 + 33 = 89$

$60 + 24 = 84$

$82 + 17 = 99$

$52 + 10 = 62$

$21 + 78 = 99$

$65 + 13 = 78$

$37 + 30 = 67$

$62 + 26 = 88$

$20 + 54 = 74$

$73 + 25 = 98$

3 Maak de sommen.

$7 + 5 = 12$

$5 + 7 = 12$

$12 - 5 = 7$

$12 - 7 = 5$

$4 + 9 = 13$

$9 + 4 = 13$

$13 - 4 = 9$

$13 - 9 = 4$

$8 + 7 = 15$

$7 + 8 = 15$

$15 - 7 = 8$

$15 - 8 = 7$

$9 + 6 = 15$

$6 + 9 = 15$

$15 - 6 = 9$

$15 - 9 = 6$



4 Hoeveel krijg je terug?


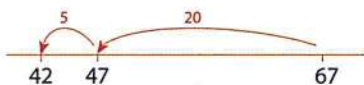
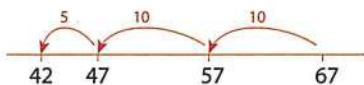
Je betaalt met:



- a €32
- b €35
- c €21
- d €19
- e €13



5 Hoe reken jij? Je mag de lege getallenlijn gebruiken.



67 - 25 =



- 67 - 25 = 42
- 84 - 43 = 41
- 29 - 15 = 14
- 50 - 24 = 26
- 78 - 16 = 62

- 94 - 51 = 43
- 67 - 40 = 27
- 30 - 18 = 12
- 55 - 33 = 22
- 46 - 14 = 32

- 37 - 22 = 15
- 40 - 27 = 13
- 75 - 54 = 21
- 91 - 50 = 41
- 88 - 63 = 25

6 Hoeveel?



5 x 5 = 25 sinaasappels



7 x 4 = 28 munten



9 x 4 = 36 goudstaven



9 x 2 = 18 euro



3 x 6 = 18 tegels

6 x 3

Ga verder met opgave 3 op pagina 40 van je werkboek.



1 Betalen op Schateiland.

Op Schateiland hebben ze munten van 1, 2, 4, 8, 16 en 32 florijn.

a Wat zijn alle munten samen waard? **63**

b Betaal gepast. Je mag alle munten maar één keer gebruiken.



2 Schatten zoeken.

Op het strand liggen allemaal schatkisten.

Op de kisten staat hoeveel florijnen er in zitten.

Zoek kisten waar samen 60, 70, 80 en 90 florijnen in zitten.

Het kan op twee manieren: met twee kisten en met drie kisten.


60: 55 + 5 / 45 + 15 / 35 + 25 /

45 + 10 + 5 / 35 + 20 + 5 /

30 + 10 + 20 / 25 + 30 + 5 /

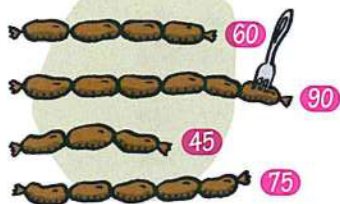
11 + 19 + 30

Kortom: er zijn meerdere mogelijkheden

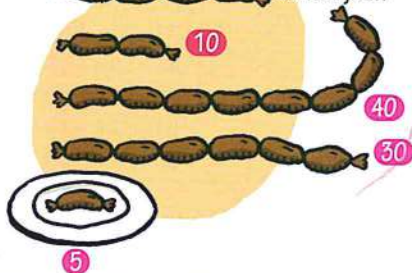


3 Wat kosten de worsten?

30 florijnen



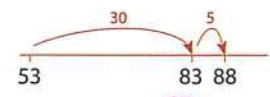
20 florijnen



Blok 2 Week 2 Taak 

1 Maak de erbijsommen.

$53 + 35 =$



- $53 + 30 = 83$
- $53 + 35 = 88$
- $53 + 32 = 85$
- $53 + 36 = 89$
- $53 + 37 = 90$

- $62 + 20 = 82$
- $62 + 25 = 87$
- $62 + 23 = 85$
- $62 + 27 = 89$
- $62 + 28 = 90$

- $21 + 40 = 61$
- $21 + 46 = 67$
- $21 + 43 = 64$
- $21 + 48 = 69$
- $21 + 49 = 70$



2 Kies het goede antwoord.

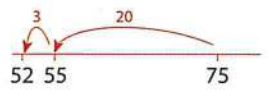
- $7 \times 2 =$ 12 14
- $6 \times 3 =$ 18 15
- $4 \times 4 =$ 14 16
- $8 \times 4 =$ 32 36
- $9 \times 2 =$ 18 19

- $4 \times 3 =$ 12 14
- $7 \times 4 =$ 26 28
- $6 \times 2 =$ 12 16
- $6 \times 4 =$ 24 26
- $9 \times 3 =$ 24 27

- $5 \times 4 =$ 20 24
- $8 \times 3 =$ 24 28
- $8 \times 2 =$ 18 16
- $7 \times 3 =$ 21 24
- $9 \times 4 =$ 32 36



3 Maak de erafsommen. Gebruik de lege getallenlijn.



$75 - 23 =$

- $75 - 20 = 55$
- $75 - 23 = 52$
- $75 - 21 = 54$
- $75 - 24 = 51$
- $75 - 25 = 50$

- $88 - 50 = 38$
- $88 - 55 = 33$
- $88 - 53 = 35$
- $88 - 57 = 31$
- $88 - 58 = 30$

- $70 - 30 = 40$
- $70 - 33 = 37$
- $70 - 35 = 35$
- $70 - 37 = 33$
- $70 - 39 = 31$

 Ga verder met opgave 1 op pagina 42 van je werkboek.

1 Hoe laat is het? Schrijf het in woorden op.



kwart over 8



half 11



kwart voor 7



kwart over 1



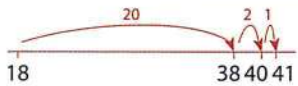
kwart voor 10



Ga verder met opgave 2 op pagina 42 van je werkboek.

2 Hoe reken jij de som uit?

$18 + 23 =$



$18 + 23 = 41$

$58 + 22 = 80$

$73 + 27 = 100$

$32 + 25 = 57$

$67 + 14 = 81$

$81 + 18 = 99$

$17 + 14 = 31$

$62 + 20 = 82$

$23 + 36 = 59$

$44 + 50 = 94$

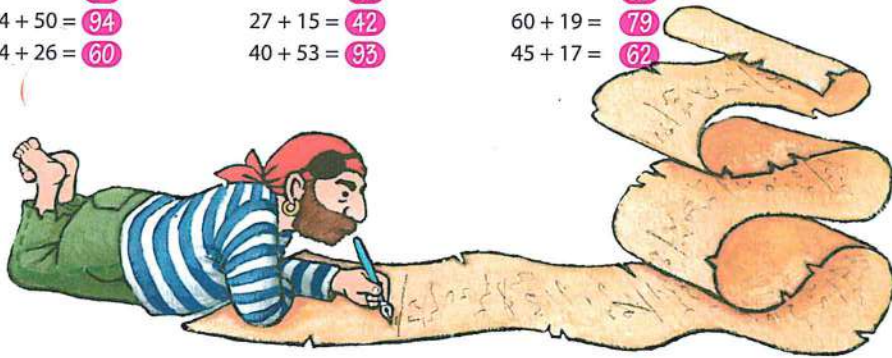
$27 + 15 = 42$

$60 + 19 = 79$

$34 + 26 = 60$

$40 + 53 = 93$

$45 + 17 = 62$



3 Reken uit.

$62 + 8 = 70$

$53 + 7 = 60$

$44 + 6 = 50$

$70 - 8 = 62$

$60 - 7 = 53$

$50 - 6 = 44$

$27 + 3 = 30$

$71 + 9 = 80$

$35 + 5 = 40$

$30 - 6 = 24$

$80 - 9 = 71$

$40 - 5 = 35$

4 Splitsen.

13	
4	9
6	7
8	5
8	5
3	10

15	
9	6
11	4
7	8
10	5
2	13

14	
6	8
5	9
4	10
7	7
3	11


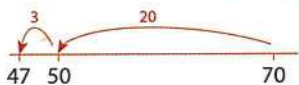


5 Reken uit.

70 - 23 = ?



70 florijnen ...
hoeveel houd ik
over?



- 70 - 23 = 47
- 74 - 44 = 30
- 50 - 17 = 33
- 44 - 15 = 29
- 65 - 25 = 40

- 67 - 30 = 37
- 33 - 16 = 17
- 51 - 24 = 27
- 80 - 32 = 48
- 46 - 23 = 23

- 89 - 39 = 50
- 68 - 27 = 41
- 70 - 19 = 51
- 85 - 40 = 45
- 72 - 14 = 58

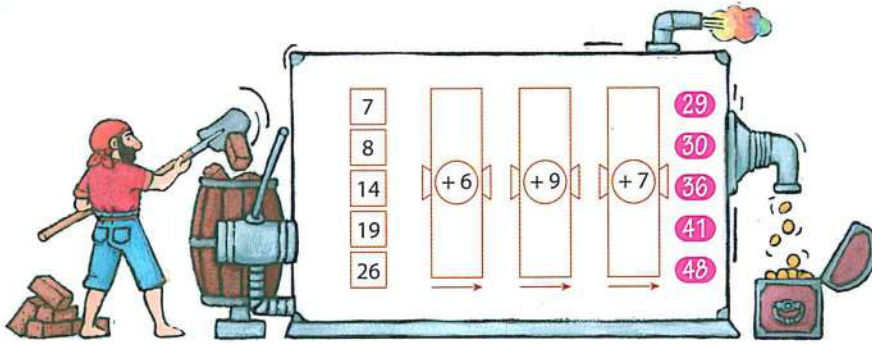
6 Reken handig.

- 33 - 30 = 3
- 33 - 29 = 4
- 46 - 20 = 26
- 46 - 18 = 28

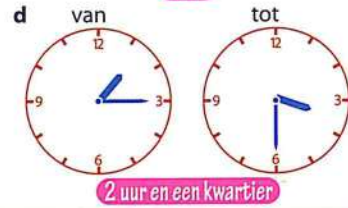
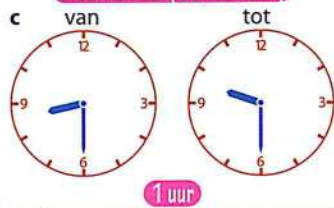
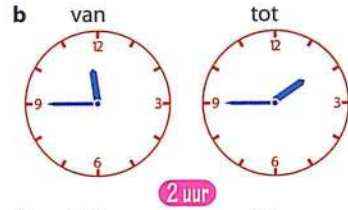
- 54 - 50 = 4
- 54 - 48 = 6
- 85 - 60 = 25
- 85 - 57 = 28

- 92 - 90 = 2
- 92 - 87 = 5
- 77 - 40 = 37
- 77 - 39 = 38

1 Welk getal komt er uit de machine?



2 Hoe lang duurt het?



3 Splitsen.

73	
13	60
33	40
53	20
63	10
43	30

90	
4	86
44	46
74	16
54	36
14	76

80	
76	4
56	24
24	56
53	27
47	33



1 Hoeveel houd je over?

a Je hebt € 45.

Je koopt:



b Je hebt € 36.

Je koopt:



c Je hebt € 53.

Je koopt:



d Je hebt € 61.

Je koopt:



e Je hebt € 74.

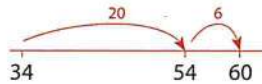
Je koopt:



Ga verder met opgave 1 op pagina 44 van je werkboek.

2 Maak de erbijsommen.

$34 + 26 =$



$34 + 26 = 60$

$14 + 82 = 96$

$23 + 15 = 38$

$50 + 26 = 76$

$48 + 20 = 68$

$77 + 13 = 90$

$40 + 53 = 93$

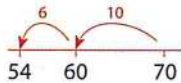
$57 + 30 = 87$

$13 + 17 = 30$

$60 + 38 = 98$



3 Maak de erafsommen.



$70 - 16 =$

$70 - 16 = 54$

$58 - 20 = 38$

$60 - 25 = 35$

$42 - 12 = 30$

$52 - 6 = 46$

$72 - 40 = 32$

$34 - 20 = 14$

$80 - 24 = 56$

$34 - 9 = 25$

$26 - 7 = 19$

$63 - 23 = 40$

$40 - 13 = 27$

$40 - 19 = 21$


$90 - 11 = 79$

$69 - 19 = 50$



Ga verder met opgave 2 op pagina 44 van je werkboek.

1 Hoeveel piraten op elk schip?



2 Hoeveel schepen heb je nodig?

Op elk schip kunnen 4 piraten.

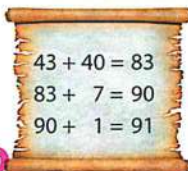
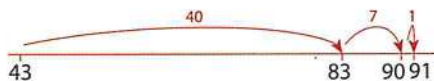
- Voor 32 piraten heb je **8** schepen nodig.
- Voor 16 piraten heb je **4** schepen nodig.
- Voor 40 piraten heb je **10** schepen nodig.
- Voor 36 piraten heb je **9** schepen nodig.
- Voor 24 piraten heb je **6** schepen nodig.

Op elk schip kunnen 5 piraten.

- Voor 35 piraten heb je **7** schepen nodig.
- Voor 50 piraten heb je **10** schepen nodig.
- Voor 15 piraten heb je **3** schepen nodig.
- Voor 40 piraten heb je **8** schepen nodig.
- Voor 25 piraten heb je **5** schepen nodig.

3 Maak de erbijsommen.

$43 + 48 =$



- $43 + 48 = 91$
- $34 + 17 = 51$
- $19 + 32 = 51$
- $76 + 10 = 86$
- $24 + 16 = 40$

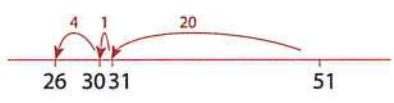
- $45 + 20 = 65$
- $29 + 21 = 50$
- $55 + 18 = 73$
- $36 + 37 = 73$
- $60 + 27 = 87$

- $50 + 35 = 85$
- $57 + 14 = 71$
- $31 + 19 = 50$
- $58 + 30 = 88$
- $65 + 15 = 80$

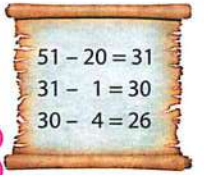
4 Hoeveel duurder?



5 Maak de erafsommen.



51 - 25 =



- | | | |
|--------------|--------------|--------------|
| 51 - 25 = 26 | 49 - 29 = 20 | 70 - 46 = 24 |
| 20 - 12 = 8 | 59 - 36 = 23 | 42 - 27 = 15 |
| 39 - 20 = 19 | 65 - 40 = 25 | 58 - 19 = 39 |
| 57 - 26 = 31 | 51 - 37 = 14 | 92 - 70 = 22 |
| 63 - 23 = 40 | 50 - 24 = 26 | 81 - 21 = 60 |

6 Reken handig.

- | | | |
|--------------|--------------|--------------|
| 42 - 40 = 2 | 73 - 70 = 3 | 84 - 80 = 4 |
| 42 - 38 = 4 | 73 - 66 = 7 | 84 - 77 = 7 |
| 57 - 30 = 27 | 95 - 60 = 35 | 66 - 20 = 46 |
| 57 - 29 = 28 | 95 - 57 = 38 | 66 - 18 = 48 |

 Ga verder met opgave 3 op pagina 44 van je werkboek.



1 Alles is goedkoper. Hoe groot is het verschil?

supermarkt Sparrenboom **reclame**

appelmoes	49	appelmoes	38
bonen	53	bonen	45
rijst	79	rijst	65
sla	68	sla	50
wortelen	90	wortelen	78

11

8

14

18

12

supermarkt Grutter **reclame**

boter	95	boter	89
thee	78	thee	69
soep	58	soep	45
drop	75	drop	58
melk	55	melk	39

6

9

13

17

16

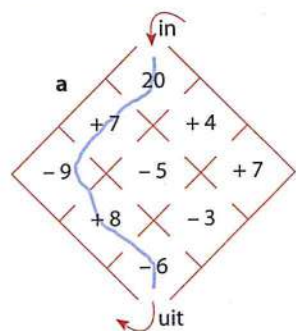
2 Schrijf de helft en het dubbele op.

getal	40	60	10	30	50	70	82	100
de helft	20	30	5	15	25	35	41	50

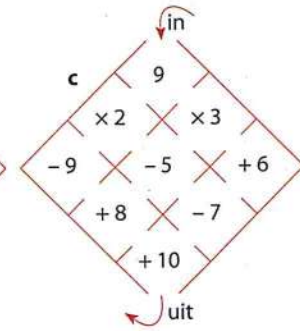
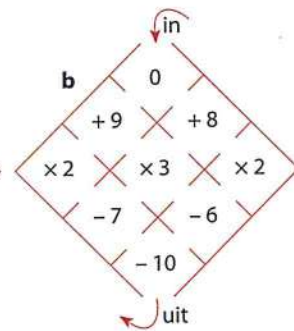
getal	5	20	25	40	15	50	35	42
het dubbele	10	40	50	80	30	100	70	84

3 Ga op 4 manieren door elke doolhof.

Reken de sommen uit.



$$20 + 7 - 9 + 8 - 6 = 20$$



kan op allerlei manieren

1 Maak de sommen.

$34 + 6 = 40$
 $67 + 3 = 70$
 $75 + 5 = 80$
 $86 + 4 = 90$
 $28 + 2 = 30$

$20 - 7 = 13$
 $30 - 6 = 24$
 $40 - 3 = 37$
 $50 - 4 = 46$
 $60 - 2 = 58$

$70 - 5 = 65$
 $90 - 8 = 82$
 $80 - 6 = 74$
 $60 - 4 = 56$
 $80 - 7 = 73$



2 Wat komt er uit de machientjes?



in	uit
8	15
25	32
37	44
56	63
49	56



in	uit
5	13
58	66
87	95
64	72
46	54



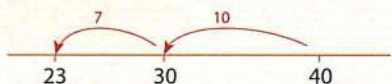
in	uit
13	6
24	7
52	45
45	38
31	24



in	uit
15	7
63	55
92	84
84	76
76	68



3 Maak de sommen.



$40 - 17 =$

$40 - 10 = 30$
 $40 - 17 = 23$
 $40 - 15 = 25$
 $40 - 12 = 28$
 $40 - 14 = 26$

$68 - 30 = 38$
 $68 - 32 = 36$
 $68 - 36 = 32$
 $68 - 34 = 34$
 $68 - 38 = 30$

$97 - 50 = 47$
 $97 - 52 = 45$
 $97 - 54 = 43$
 $97 - 56 = 41$
 $97 - 57 = 40$

4 Schrijf de antwoorden op.

a

+	20	34
63	83	97
34	54	68
25	45	59

b

+	30	29
30	60	59
40	70	69
60	90	89

c

-	10	14
70	60	56
60	50	46
80	70	66

d

-	40	43
96	56	53
53	13	10
87	47	44



5 Reken handig uit.

$10 \times 5 = 50$
 $9 \times 5 = 45$
 $8 \times 5 = 40$
 $4 \times 5 = 20$
 $5 \times 5 = 25$

$2 \times 3 = 6$
 $4 \times 3 = 12$
 $8 \times 3 = 24$
 $10 \times 3 = 30$
 $9 \times 3 = 27$

$5 \times 4 = 20$
 $6 \times 4 = 24$
 $7 \times 4 = 28$
 $10 \times 4 = 40$
 $9 \times 4 = 36$

6 Schrijf de antwoorden op.

×	2	3	4	5
10	20	30	40	50
9	18	27	36	45
5	10	15	20	25
7	14	21	28	35

×	5	10	3	4
2	10	20	6	8
4	20	40	12	16
8	40	80	24	32
6	30	60	18	24



1 Schrijf de juiste tijd op.



half 4



kwart over 6



half 11



kwart voor 8



half 7



kwart over 9




half 12



kwart voor 1

2 Zoek de juiste tijd bij elke klok.



- | | | | | | | | |
|---|--------------|---|---------|---|--------------|---|---------------|
| 1 | 19:30 | 2 | half 12 | 3 | kwart over 9 | 4 | 14:30 |
| 5 | kwart voor 1 | 6 | half 1 | 7 | 16:30 | 8 | kwart voor 12 |

1-c
5-f

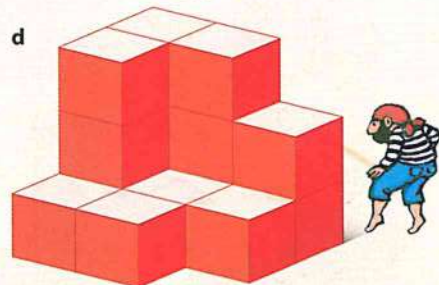
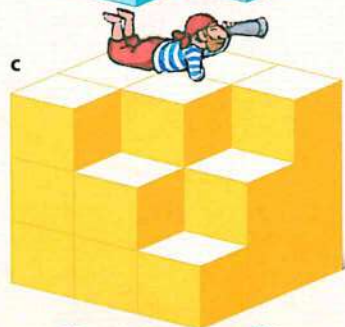

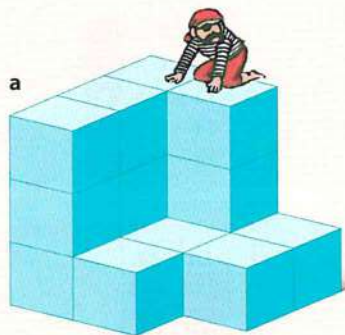
2-a
6-b

3-e
7-h

4-a
8-d



3 Welke plattegrond hoort bij welk bouwsel?



1 ^d

3	3	2
3	1	1
1	1	0

2 ^b

3	2	1
2	2	0
3	2	1

3 ^a

3	3	1
3	1	1
3	1	0

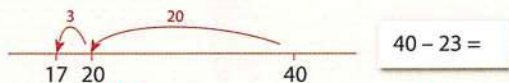
4 ^c

3	3	3
3	3	2
3	2	1

4 Hoeveel blokjes heeft elk bouwsel?

- a 16 blokjes
- b 16 blokjes
- c 23 blokjes
- d 15 blokjes

1 Maak de erafsommen.



$40 - 23 =$

- $40 - 23 = 17$
- $84 - 34 = 50$
- $68 - 20 = 48$
- $82 - 13 = 69$
- $90 - 56 = 34$

- $57 - 30 = 27$
- $60 - 47 = 13$
- $49 - 29 = 20$
- $34 - 19 = 15$
- $96 - 20 = 76$

- $81 - 21 = 60$
- $70 - 35 = 35$
- $52 - 16 = 36$
- $89 - 40 = 49$
- $74 - 18 = 56$

2 Reken uit.

+	20	26
27	47	53
39	59	65
42	62	68
66	86	92
54	74	80

+	40	46
20	60	66
10	50	56
30	70	76
50	90	96
40	80	86

+	30	34
17	47	51
26	56	60
29	59	63
38	68	72
57	87	91



3 Reken handig uit.

- $59 - 30 = 29$
- $59 - 29 = 30$
- $78 - 60 = 18$
- $78 - 58 = 20$
- $36 - 20 = 16$
- $36 - 17 = 19$

- $87 - 40 = 47$
- $87 - 39 = 48$
- $42 - 30 = 12$
- $42 - 28 = 14$
- $65 - 40 = 25$
- $65 - 37 = 28$

- $96 - 50 = 46$
- $96 - 49 = 47$
- $54 - 50 = 4$
- $54 - 48 = 6$
- $81 - 70 = 11$
- $81 - 67 = 14$



4 Reken uit.

-	30	37
54	24	17
82	52	45
47	17	10
39	9	2
61	31	24

-	20	29
95	75	66
77	57	48
86	66	57
35	15	6
42	22	13



5 Hoeveel kost het?



- 8 boeken € 40
- 3 boeken € 15
- 6 boeken € 30
- 7 boeken € 35
- 9 boeken € 45



- 4 pakken stiften € 12
- 7 pakken stiften € 21
- 9 pakken stiften € 27
- 5 pakken stiften € 15
- 6 pakken stiften € 18



- 5 vulpenen € 20
- 8 vulpenen € 32
- 9 vulpenen € 36
- 4 vulpenen € 16
- 7 vulpenen € 28

6 Geheimschrift.

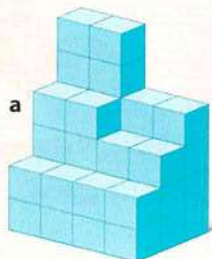
24 a	28 p	28 p	15 e	40 l	28 p	15 e	15 e	27 r
8 x 3	30 - 2	7 x 4	5 x 3	8 x 5	14 + 14	3 x 5	7 + 8	9 x 3
32 b	24 a	30 n	24 a	24 a	30 n	18 d	24 a	45 t
8 x 4	30 - 6	6 x 5	6 x 4	12 + 12	15 + 15	6 x 3	34 - 10	9 x 5
21 i	20 s		35 g	36 o	15 e	18 d		
7 x 3	4 x 5		7 x 5	9 x 4	3 + 12	9 + 9		
35 g	15 e	18 d	24 a	24 a	30 n			
41 - 6	25 - 10	9 x 2	35 - 11	8 + 16	10 x 3			

15 = e 30 = n
 18 = d 32 = b
 20 = s 35 = g
 21 = i 36 = o
 24 = a 40 = l
 27 = r 45 = t
 28 = p



appel peer banaan dat is goed gedaan

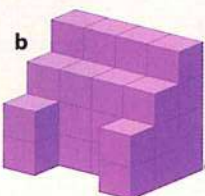
1 Welke plattegrond hoort bij welk bouwset?



1

4	4	4	4
3	3	3	3
2	0	0	2

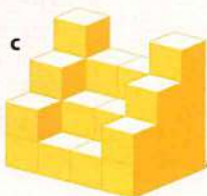
b



2

5	4	3	2
4	3	2	1
3	2	1	0

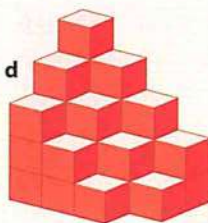
d



3

4	3	3	4
3	2	2	3
2	1	1	2

c



4

6	6	4	4
4	4	3	3
2	2	2	2

a

2 Hoeveel blokjes heeft elk bouwset?

- a 42 blokjes
- b 32 blokjes
- c 30 blokjes
- d 30 blokjes



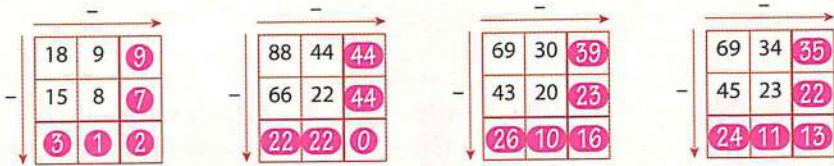
3 Welke getallen zijn samen 100?

Voorbeeld: $33 + 11 + 11 + 15 + 16 + 14 = 100$

er zijn meerdere mogelijkheden


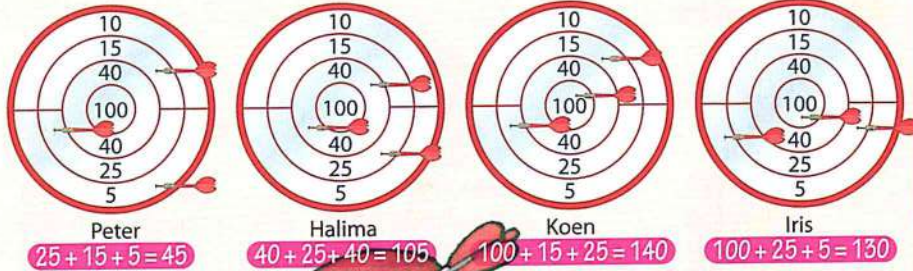


4 Tovervierkanten.

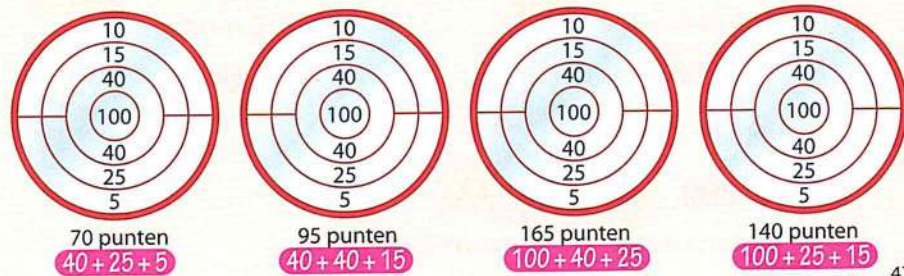


5 Pijltjes gooien.

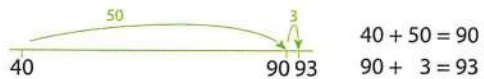
a Hoeveel punten?



b Waar gooi je de pijlen? Je mag 3 keer gooien.



1 Maak de erbijsommen.



$40 + 53 = 93$

$20 + 19 = 39$

$30 + 24 = 54$

$50 + 32 = 82$

$80 + 11 = 91$

$10 + 29 = 39$

$70 + 17 = 87$

$39 + 20 = 59$

$61 + 30 = 91$

$60 + 25 = 85$

$27 + 50 = 77$

$42 + 40 = 82$

$58 + 30 = 88$

$19 + 20 = 39$

$50 + 27 = 77$

2 Hoeveel kost het?



$3 \text{ ballen } 15$

$7 \text{ ballen } 35$

$4 \text{ ballen } 20$

$9 \text{ ballen } 45$

$8 \text{ ballen } 40$



$8 \text{ zakjes knikkers } 24$

$5 \text{ zakjes knikkers } 15$

$2 \text{ zakjes knikkers } 6$

$10 \text{ zakjes knikkers } 30$

$7 \text{ zakjes knikkers } 21$



$4 \text{ springtouwen } 16$

$8 \text{ springtouwen } 32$

$9 \text{ springtouwen } 36$

$3 \text{ springtouwen } 12$

$5 \text{ springtouwen } 20$

3 Hoeveel houd je over?

a Je hebt € 48. Je koopt:

€28



b Je hebt € 87. Je koopt:

€37



c Je hebt € 50. Je koopt:

€12



d Je hebt € 90. Je koopt:

€25



e Je hebt € 70. Je koopt:

€12


 Ga verder met opgave 1 op pagina 46 van je werkboek.