

Inhoud

Lessen

Blok 1	4
Blok 2	20
Blok 3	32
Blok 4	48

Taken

Blok 1	60
Blok 2	84
Blok 3	104
Blok 4	128

Werkboek

Blok 1	148
Blok 2	156
Blok 3	162
Blok 4	170

Bijwerkboek

Blok 1	176
Blok 2	188
Blok 3	197
Blok 4	209

Pluswerkboek

Blok 1	218
Blok 2	226
Blok 3	232
Blok 4	240

1 Maak de keersommen.

$2 \times 2 = 4$

$7 \times 3 = 21$

$2 \times 10 = 20$

$8 \times 10 = 80$

$2 \times 5 = 10$

$10 \times 10 = 100$

$3 \times 5 = 15$

$4 \times 10 = 40$

$5 \times 1 = 5$

$7 \times 1 = 7$

$8 \times 2 = 16$

$9 \times 3 = 27$

$9 \times 0 = 0$

$6 \times 3 = 18$

$4 \times 2 = 8$



2 Hoeveel?

a Hoeveel kinderen gaan samen schaatsen?

b Hoeveel kinderen hebben schaatsen?

58!

En 8 daarvan hebben geen schaatsen.

En nog 5.

$58 + 5 =$
 $\begin{array}{r} 58 \\ + 5 \\ \hline 63 \end{array}$

$63 - 8 =$
 $\begin{array}{r} 63 \\ - 8 \\ \hline 55 \end{array}$

3 Reken uit. Je mag de lege getallenlijn gebruiken.

$25 - 8 = 17$

$52 - 8 = 44$

$28 + 6 = 34$

$48 + 7 = 55$

$34 - 7 = 27$

$64 - 7 = 57$

$67 + 7 = 74$

$75 + 6 = 81$

$43 - 6 = 37$

$83 - 6 = 77$

$84 + 8 = 92$

$35 + 8 = 43$

$55 - 9 = 46$

$53 - 7 = 46$

$68 + 9 = 77$

$73 + 9 = 82$

$36 - 8 = 28$

$75 - 8 = 67$

$72 + 8 = 80$

$85 + 8 = 93$

Les 2 Week 1

Blok 1

1 Reken uit.

$7 + 7 = 14$

$7 + 8 = 15$

$6 + 6 = 12$

$6 + 5 = 11$

$8 + 8 = 16$

$9 + 8 = 17$

$6 + 7 = 13$

$8 + 6 = 14$

$9 + 9 = 18$

$7 + 5 = 12$



$14 - 10 = 4$

$14 - 9 = 5$

$14 - 7 = 7$

$14 - 6 = 8$

$14 - 8 = 6$

$15 - 10 = 5$

$15 - 8 = 7$

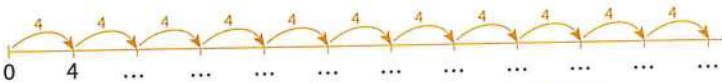
$17 - 9 = 8$

$13 - 7 = 6$

$16 - 9 = 7$

2 Hoeveel keer 4?

Er kunnen wel
40 kinderen mee.



3 De tafel van 4.

$1 \times 4 = 4$

$2 \times 4 = 8$

$3 \times 4 = 12$

$4 \times 4 = 16$

$5 \times 4 = 20$

$6 \times 4 = 24$

$7 \times 4 = 28$

$8 \times 4 = 32$

$9 \times 4 = 36$

$10 \times 4 = 40$

$5 \times 4 = 20$

$10 \times 4 = 40$

$2 \times 4 = 8$

$4 \times 4 = 16$

$8 \times 4 = 32$

$3 \times 4 = 12$

$6 \times 4 = 24$

$9 \times 4 = 36$

$7 \times 4 = 28$

$11 \times 4 = 44$



1 Schrijf bij elke klok twee tijden op.



's morgens 9.00 uur
's avonds 21.00 uur



's morgens 11.30 uur
's avonds 23.30 uur

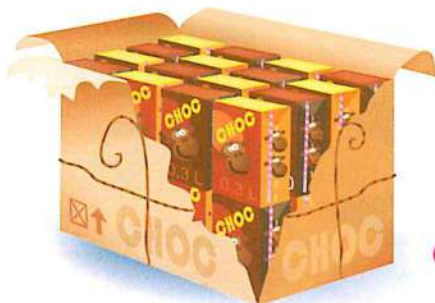


's nachts 3.30 uur
's middags 15.30 uur



's morgens 7.30 uur
's avonds 19.30 uur

2 Zijn er genoeg pakjes?



32



Dat is wel genoeg voor 40 kinderen.

3 Zijn hier genoeg pakjes?

En hier is genoeg voor 26 kinderen.



26

Ga verder met opgave 4 en 5 op pagina 33 van je werkboek.

Les 4 Week 1

Blok 1

1 Welk getal zit er onder de sneeuw?

$3 \times 5 = 15$	$7 \times 3 = 21$	$10 \times 10 = 100$
$6 \times 2 = 12$	$9 \times 5 = 45$	$9 \times 2 = 18$
$7 \times 10 = 70$	$9 \times 10 = 90$	$0 \times 3 = 0$
$5 \times 5 = 25$	$8 \times 2 = 16$	$8 \times 3 = 24$
$4 \times 10 = 40$	$6 \times 5 = 30$	$7 \times 5 = 35$

2 Hoeveel euro hebben ze?

Ik heb 52 euro. Ik heb nog 10 euro nodig.



$52 + 10$

Ik heb 45 euro. Ik heb 20 euro uitgegeven.



$45 - 20$

Ik heb 68 euro. Ik heb 30 euro uitgegeven.



$68 - 30$



3 Reken uit.

$37 - 10 = 27$	$67 - 20 = 47$	$46 + 10 = 56$	$25 + 30 = 55$
$49 - 20 = 29$	$78 - 30 = 48$	$58 + 20 = 78$	$47 + 20 = 67$
$75 - 20 = 55$	$86 - 30 = 56$	$63 + 30 = 93$	$68 + 30 = 98$
$58 - 10 = 48$	$63 - 20 = 43$	$34 + 10 = 44$	$56 + 30 = 86$
$94 - 30 = 64$	$98 - 30 = 68$	$72 + 20 = 92$	$69 + 20 = 89$

1 Maak de erafsommen.

$20 - 20 = 0$	$40 - 40 = 0$	$90 - 89 = 1$	$40 - 38 = 2$
$20 - 18 = 2$	$40 - 39 = 1$	$70 - 68 = 2$	$100 - 99 = 1$
$30 - 30 = 0$	$40 - 37 = 3$	$50 - 47 = 3$	$90 - 88 = 2$
$30 - 29 = 1$	$80 - 80 = 0$	$60 - 58 = 2$	$90 - 87 = 3$
$30 - 27 = 3$	$80 - 78 = 2$	$70 - 70 = 0$	$70 - 69 = 1$

2 Hoeveel kinderen?

38 kinderen kunnen schaatsen. 7 kunnen het nog niet.

Wij hebben samen 73 kinderen in onze groepen. 8 kinderen kunnen niet schaatsen.

Dan zitten er dus
 $38 + 7 = 45$
 2 5
 kinderen in onze groepen.

Dan zijn er ...
 $73 - 8 = 65$
 3 5
 kinderen die kunnen schaatsen.

3 Reken uit.

$41 - 7 = 34$	$52 - 7 = 45$	$33 + 8 = 41$	$78 + 5 = 83$
$55 - 8 = 47$	$84 - 8 = 76$	$27 + 7 = 34$	$87 + 6 = 93$
$75 - 6 = 69$	$33 - 6 = 27$	$58 + 4 = 62$	$65 + 7 = 72$
$62 - 9 = 53$	$21 - 7 = 14$	$37 + 5 = 42$	$76 + 9 = 85$
$51 - 8 = 43$	$44 - 8 = 36$	$63 + 8 = 71$	$89 + 7 = 96$

Les 2 Week 2

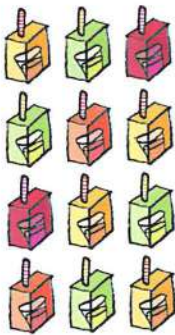
Blok 1

1 Maak de sommen.

$7 + 7 = 14$	$14 - 4 = 10$	$7 + 5 = 12$	$8 + 7 = 15$
$14 - 7 = 7$	$14 - 5 = 9$	$7 + 6 = 13$	$8 + 6 = 14$
$8 + 8 = 16$	$17 - 7 = 10$	$9 + 9 = 18$	$14 - 8 = 6$
$16 - 8 = 8$	$17 - 8 = 9$	$9 + 8 = 17$	$13 - 8 = 5$
$16 - 9 = 7$	$17 - 6 = 11$	$17 - 9 = 8$	$14 - 9 = 5$



2 Vermenigvuldigen.



3 x 4 pakjes
chocolademelk...

4 x 3
kan dan toch
ook!

Dan weet ik
8 x 3 ook!



$10 \times 2 = 20$ $9 \times 2 = 18$

$5 \times 5 = 25$
 $6 \times 5 = 30$

3 Reken handig uit.

$4 \times 5 = 20$	$4 \times 2 = 8$	$3 \times 10 = 30$	$8 \times 3 = 24$
$5 \times 4 = 20$	$8 \times 2 = 16$	$6 \times 10 = 60$	$4 \times 3 = 12$
$6 \times 4 = 24$	$9 \times 2 = 18$	$5 \times 10 = 50$	$2 \times 3 = 6$
$3 \times 4 = 12$	$2 \times 9 = 18$	$10 \times 5 = 50$	$3 \times 2 = 6$
$2 \times 4 = 8$	$2 \times 10 = 20$	$9 \times 5 = 45$	$6 \times 2 = 12$

Blok 1

Week 2 Les 3



1 Hoe lang? Hoe zwaar?

a Wat is korter dan 1 meter?



b Wat is lichter dan 1 kilogram?



2 Hoeveel bekers?



Ga verder met opgave 3 en 4 op pagina 35 van je werkboek.


1 Tel terug met sprongen van 10.

42	52	62	72	82	92
14	24	34	44	54	64
37	47	57	67	77	87
25	35	45	55	65	75
9	19	29	39	49	59



2 Hoeveel euro kost het?

- a Hoeveel kosten de trui en de skibril samen? $49 + 20 = 69$
 b Hoeveel kost de skibroek? $95 - 30 = 65$



3 Maak de sommen.

$55 - 10 = 45$
 $68 - 20 = 48$
 $73 - 10 = 63$
 $85 - 30 = 55$
 $42 - 20 = 22$

$94 - 40 = 54$
 $76 - 30 = 46$
 $81 - 20 = 61$
 $57 - 40 = 17$
 $33 - 20 = 13$

$47 + 30 = 77$
 $59 + 20 = 79$
 $77 + 20 = 97$
 $63 + 30 = 93$
 $18 + 30 = 48$

$36 + 40 = 76$
 $82 + 10 = 92$
 $49 + 40 = 89$
 $26 + 30 = 56$
 $51 + 30 = 81$

1 Schrijf het goede antwoord op.

$2 \times 2 =$ (2) (4)

$1 \times 5 =$ (5) (6)

$10 \times 10 =$ (100) (20)

$3 \times 5 =$ (15) (18)

$8 \times 2 =$ (16) (14)

$2 \times 0 =$ (2) (0)

$6 \times 4 =$ (20) (24)

$4 \times 4 =$ (14) (16)

$5 \times 4 =$ (20) (24)

$5 \times 10 =$ (15) (50)

$7 \times 3 =$ (21) (20)

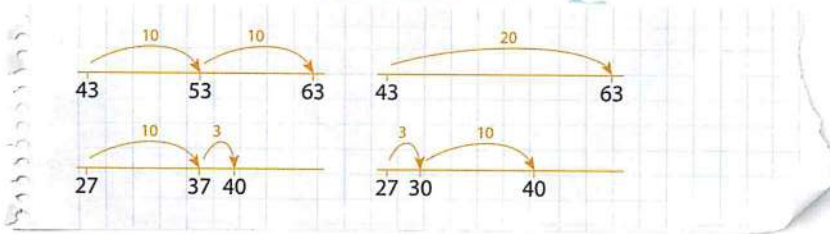
$8 \times 3 =$ (24) (21)

$7 \times 0 =$ (0) (7)

$3 \times 10 =$ (30) (31)

$9 \times 2 =$ (18) (19)

2 Hoe spring jij?



18 ————— 30

24 ————— 39

3 Hoe spring jij?

Teken de sprongen op de getallenlijn.

Van 51 naar 91.

Van 38 naar 60.

Van 64 naar 78.

Van 26 naar 55.

Van 43 naar 62.



kan op verschillende manieren

Les 2 Week 3

Blok 1

1 Reken uit. Zie je wat er gebeurt?

$12 - 9 = 3$	$15 - 6 = 9$	$16 - 7 = 9$	$12 - 5 = 7$
$9 + 3 = 12$	$6 + 9 = 15$	$7 + 9 = 16$	$5 + 7 = 12$
$14 - 5 = 9$	$18 - 10 = 8$	$14 - 6 = 8$	$13 - 6 = 7$
$5 + 9 = 14$	$10 + 8 = 18$	$6 + 8 = 14$	$6 + 7 = 13$



2 Vermenigvuldigen.

$6 \times 5 = 30$,
 laat ze nu maar komen!
 Ik zie er $5 \times 6!$
 10×3 minuten
 Dan is 9×3 minuten 27 minuten.
 $4 \times 4 = 16$,
 $4 \times 4 = 16$,
 $8 \times 4 = 32$ wanten.
 $4 \times 4 = 16?$
 Dan is $5 \times 4 = 20!$

3 Reken handig uit.

$3 \times 3 = 9$	$4 \times 7 = 28$	$10 \times 2 = 20$	$4 \times 4 = 16$
$6 \times 3 = 18$	$10 \times 10 = 100$	$5 \times 2 = 10$	$8 \times 4 = 32$
$3 \times 6 = 18$	$5 \times 10 = 50$	$6 \times 2 = 12$	$9 \times 4 = 36$
$7 \times 3 = 21$	$10 \times 5 = 50$	$6 \times 4 = 24$	$4 \times 9 = 36$
$8 \times 3 = 24$	$9 \times 5 = 45$	$7 \times 4 = 28$	$4 \times 10 = 40$

Blok 1

Week 3

Les 3




1 Waar of niet waar?

Schrijf het zo op: *a waar*

- a December heeft 31 dagen. **waar** f Na mei komt juli. **niet waar**
 b In juli is het lente. **niet waar** g Voor oktober komt november. **niet waar**
 c Een maand heeft 29 of 31 dagen. **niet w.** h Na de zomer komt de herfst. **waar**
 d Na de dinsdag komt de maandag. **niet w.** i De vierde maand is april. **waar**
 e November is in de herfst. **waar** j De eerste dag van het jaar is een maandag. **niet waar**

2 Hoe betaal je?

Betaal gepast. Kies uit:



3 Je betaalt met 1 euro. Wat krijg je terug?

- a Je koopt 2 tijgerbollen. **20 cent**
 b Je koopt 1 stokbrood. **5 cent**
 c Je koopt 3 tarwebollen. **25 cent**
 d Je koopt 2 krentenbollen. **30 cent**



Ga verder met opgave 4 en 5 op pagina 37 van je werkboek.

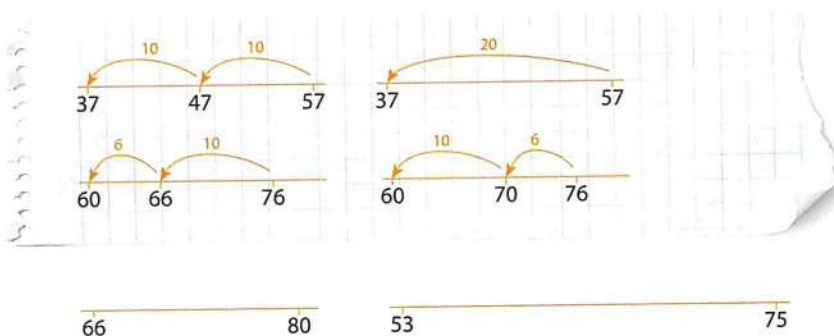
Les 4 Week 3

Blok 1

1 Welke getallen horen op de kaartjes?



2 Hoe spring jij?



3 Hoe spring jij?

Teken de sprongen op de getallenlijn.

kan op verschillende manieren

- Van 68 naar 38.
- Van 50 naar 28.
- Van 86 naar 63.
- Van 52 naar 30.
- Van 73 naar 55.



Blok 1

Week 4 Les 1

1 Hoeveel euro krijg je terug?

Je betaalt met:



€9

€41



€11

€39



€15

€35



€20

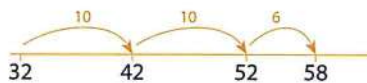
€30



€25

€25

2 Hoeveel betaal je? Reken uit op de lege getallenlijn.



$$50 + 28 = 78$$

$$35 + 12 = 47$$

$$47 + 20 = 67$$

$$63 + 25 = 88$$

3 Hoe reken jij?

$30 + 12 = 42$

$36 + 13 = 49$

$25 + 22 = 47$

$37 + 41 = 78$

$16 + 23 = 39$

$60 + 34 = 94$

$51 + 18 = 69$

$42 + 37 = 79$

$26 + 63 = 89$

$54 + 33 = 87$



Les 2 Week 4

Blok 1

1 Maak de sommen.

$8 + 6 = 14$

$6 + 8 = 14$

$14 - 8 = 6$

$14 - 6 = 8$

$7 + 5 = 12$

$5 + 7 = 12$

$12 - 5 = 7$

$12 - 7 = 5$

$9 + 8 = 17$

$8 + 9 = 17$

$17 - 8 = 9$

$17 - 9 = 8$

2 Hoeveel keer?



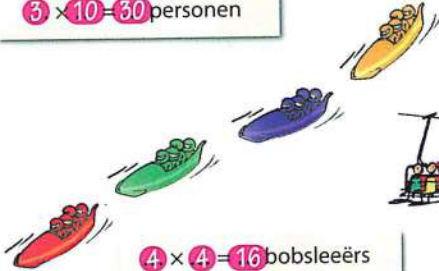
$7 \times 2 = 14$ ski's



$3 \times 10 = 30$ personen



$4 \times 5 = 20$ skischoenen
 $5 \times 4 = 20$



$4 \times 4 = 16$ bobsleeërs



$6 \times 2 = 12$ personen

3 Hoeveel?

Je betaalt met 8 briefjes van 10 euro.

Voor de skilift staan 8 rijtjes van 2 mensen.

De sportwinkel verkoopt 6 dozen met 5 mutsen.

Er rijden 7 auto's met 4 kinderen naar de ijsbaan.

Je schaatst 3 rondjes. Daarna rust je even. Dat doe je zo 5 keer.

Dat is 80 euro.

Dat zijn 16 mensen.

Dat zijn 30 mutsen.

Dat zijn 28 kinderen.

Dat zijn samen 15 rondjes.




1 Hoe laat is het?



Schrijf op: a = half 9 's avonds



2 Zet de tangrapuzzel in elkaar. Gebruik kopieerblad 4.



3 Leg deze figuren.

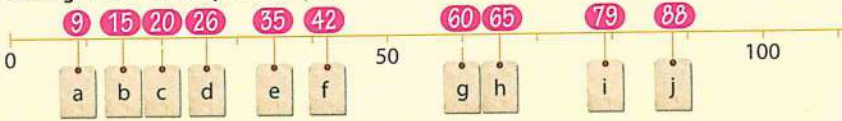


Ga verder met opgave 4 en 5 op pagina 39 van je werkboek.

Les 4 Week 4

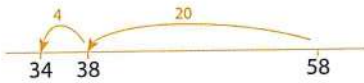
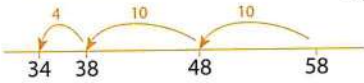
Blok 1

1 Welke getallen horen op de kaartjes?



2 Hoe reken jij? Spring op de lege getallenlijn.

$$58 - 24 = 34$$



$$73 - 40 = 33$$

$$60 - 28 = 32$$

$$47 - 15 = 32$$

$$86 - 24 = 62$$

Ik had 58 euro in de portemonnee.

24 euro uitgegeven.



3 Hoe reken jij? Gebruik de lege getallenlijn.

$$53 - 23 = 30$$

$$65 - 30 = 35$$

$$70 - 31 = 39$$

$$66 - 24 = 42$$

$$79 - 25 = 54$$

$$86 - 46 = 40$$

$$93 - 50 = 43$$

$$80 - 42 = 38$$

$$55 - 23 = 32$$

$$68 - 35 = 33$$

1 Maak de sommen.



$56 + 4 = 60$

$25 + 5 = 30$

$73 + 7 = 80$

$38 + 2 = 40$

$60 - 4 = 56$

$30 - 5 = 25$

$80 - 7 = 73$

$40 - 2 = 38$

$53 + 7 = 60$

$61 + 9 = 70$

$45 + 5 = 50$

$34 + 6 = 40$

$60 - 7 = 53$

$70 - 9 = 61$

$50 - 5 = 45$

$40 - 6 = 34$

2 Hoe reken jij? Gebruik de lege getallenlijn.

a 50

$50 + 28 = 78$

b 38

$38 + 20 = 58$

c 26

$26 + 14 = 40$

d 35

$35 + 12 = 47$

e 17

$17 + 25 = 42$

f 48

$48 + 37 = 85$



3 Maak de sommen. Hoe reken jij?

$40 + 23 = 63$

$60 + 35 = 95$

$59 + 21 = 80$

$37 + 13 = 50$

$57 + 35 = 92$

$52 + 30 = 82$

$28 + 20 = 48$

$44 + 27 = 71$

$63 + 37 = 100$

$50 + 18 = 68$

$57 + 40 = 97$

$68 + 17 = 85$

$71 + 10 = 81$

$34 + 46 = 80$

$46 + 39 = 85$

1 Splitsen.


12	
7	5
9	3
6	6
4	8
2	10

13	
6	7
8	5
3	10
9	4
2	11

14	
7	7
5	9
8	6
3	11
12	2



2 Reken handig.



3 Reken handig uit.

x	2	3	5
5	10	15	25
10	20	30	50
9	18	27	45
8	16	24	40
4	8	12	20

x	10	4	0
3	30	12	0
6	60	24	0
7	70	28	0
2	20	8	0
4	40	16	0



1 Hoe kan de piraat betalen?

Neem de tabellen over en vul in.

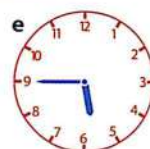
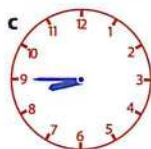



95 cent



kan op nog meer manieren

2 Kwart over en kwart voor.



Ga verder met opgave 3, 4 en 5 op pagina 41 van je werkboek.

1 Tel terug met sprongen van 10.

44	54	64	74	84	94
23	33	43	53	63	73
39	49	59	69	79	89
18	28	38	48	58	68



2 Hoe reken jij? Gebruik de lege getallenlijn.

- a $53 - 18 = 35$
- b $53 - 13 = 40$
- c $74 - 40 = 34$
- d $60 - 28 = 32$
- e $43 - 15 = 28$



3 Maak de sommen. Hoe reken jij?

$46 - 16 = 30$	$38 - 18 = 20$	$87 - 39 = 48$
$57 - 20 = 37$	$72 - 13 = 59$	$81 - 24 = 57$
$50 - 17 = 33$	$70 - 23 = 47$	$90 - 42 = 48$
$53 - 15 = 38$	$61 - 30 = 31$	$84 - 50 = 34$
$36 - 18 = 18$	$55 - 37 = 18$	$73 - 33 = 40$

1 Maak de keersommen.

$10 \times 4 = 40$

$2 \times 4 = 8$

$10 \times 3 = 30$

$3 \times 4 = 12$

$9 \times 4 = 36$

$3 \times 4 = 12$

$9 \times 3 = 27$

$2 \times 3 = 6$

$8 \times 4 = 32$

$6 \times 4 = 24$

$3 \times 9 = 27$

$3 \times 3 = 9$

$4 \times 8 = 32$

$4 \times 6 = 24$

$8 \times 3 = 24$

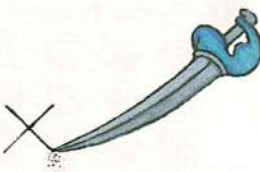
$6 \times 3 = 18$

$4 \times 4 = 16$

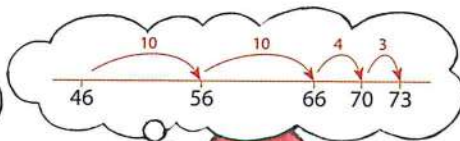
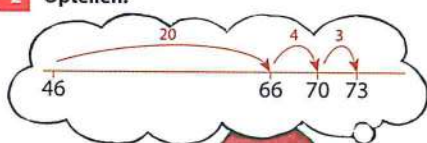
$7 \times 4 = 28$

$4 \times 3 = 12$

$7 \times 3 = 21$



2 Optellen.



Ha! 46 goudstaven

$$\begin{aligned} 46 + 20 &= 66 \\ 66 + 4 &= 70 \\ 70 + 3 &= 73 \end{aligned}$$



$$\begin{aligned} 46 + 20 &= 66 \\ 66 + 7 &= 73 \end{aligned}$$

Erbij 27
... dat is minstens
100 samen!
Niet gek!

3 Maak de erbijsommen op jouw manier.

$50 + 43 = 93$

$56 + 35 = 91$

$68 + 13 = 81$

$48 + 22 = 70$

$57 + 15 = 72$

$46 + 47 = 93$

$37 + 30 = 67$

$44 + 16 = 60$

$19 + 23 = 42$

$60 + 28 = 88$

$59 + 40 = 99$

$43 + 48 = 91$

$82 + 18 = 100$

$34 + 36 = 70$

$58 + 37 = 95$

Les 2 Week 2

Blok 2

1 Reken uit.

$12 - 9 = 3$

$15 - 7 = 8$

$12 - 3 = 9$

$17 - 9 = 8$

$9 + 3 = 12$

$7 + 8 = 15$

$3 + 9 = 12$

$9 + 8 = 17$

$13 - 7 = 6$

$14 - 6 = 8$

$14 - 8 = 6$

$15 - 6 = 9$


$7 + 6 = 13$

$6 + 8 = 14$

$8 + 6 = 14$

$6 + 9 = 15$

2 Reken handig.



$47 - 40 = 7$

$47 - 39 = 8$

3 Reken handig uit.

$56 - 30 = 26$

$75 - 30 = 45$

$86 - 60 = 26$

$56 - 29 = 27$

$75 - 29 = 46$

$86 - 58 = 28$

$66 - 20 = 46$

$83 - 50 = 33$

$97 - 20 = 77$

$66 - 19 = 47$

$83 - 49 = 34$

$97 - 18 = 79$

$37 - 20 = 17$

$52 - 40 = 12$

$63 - 50 = 13$

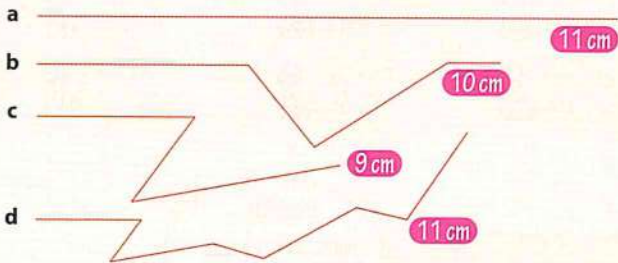
$37 - 19 = 18$

$52 - 39 = 13$

$63 - 48 = 15$



1 Welke lijnen zijn langer dan 10 cm? *a en d*



2 Hoeveel goudstukken krijgt elke piraat?

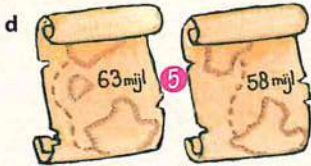



Ga verder met opgave 3 en 4 op pagina 43 van je werkboek.

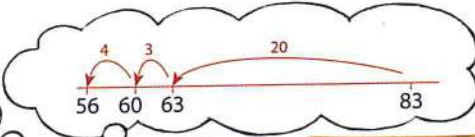
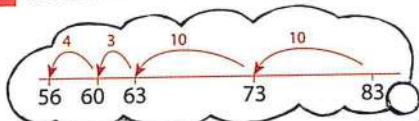
Les 4 Week 2

Blok 2

1 Hoeveel meer?



2 Aftrekken.



Hoi 83 goudstukken!!

Voor mij
27 goudstukken eraf!
Dan heb je er nog ongeveer
50 over.



$$\begin{aligned} 83 - 20 &= 63 \\ 63 - 3 &= 60 \\ 60 - 4 &= 56 \end{aligned}$$

$$\begin{aligned} 83 - 20 &= 63 \\ 63 - 7 &= 56 \end{aligned}$$

3 Reken uit op jouw manier.

$$\begin{aligned} 35 - 20 &= 15 \\ 61 - 31 &= 30 \\ 70 - 52 &= 18 \\ 68 - 45 &= 23 \\ 99 - 70 &= 29 \end{aligned}$$

$$\begin{aligned} 46 - 26 &= 20 \\ 45 - 18 &= 27 \\ 60 - 24 &= 36 \\ 83 - 35 &= 48 \\ 58 - 27 &= 31 \end{aligned}$$

$$\begin{aligned} 52 - 15 &= 37 \\ 80 - 59 &= 21 \\ 79 - 40 &= 39 \\ 72 - 45 &= 27 \\ 96 - 53 &= 43 \end{aligned}$$

1 Maak de keersommen.

$3 \times 2 = 6$

$5 \times 3 = 15$

$6 \times 5 = 30$

$8 \times 4 = 32$

$6 \times 2 = 12$

$10 \times 3 = 30$

$3 \times 5 = 15$

$4 \times 4 = 16$

$7 \times 2 = 14$

$9 \times 3 = 27$

$4 \times 5 = 20$

$2 \times 4 = 8$

$10 \times 2 = 20$

$8 \times 3 = 24$

$8 \times 5 = 40$

$5 \times 4 = 20$

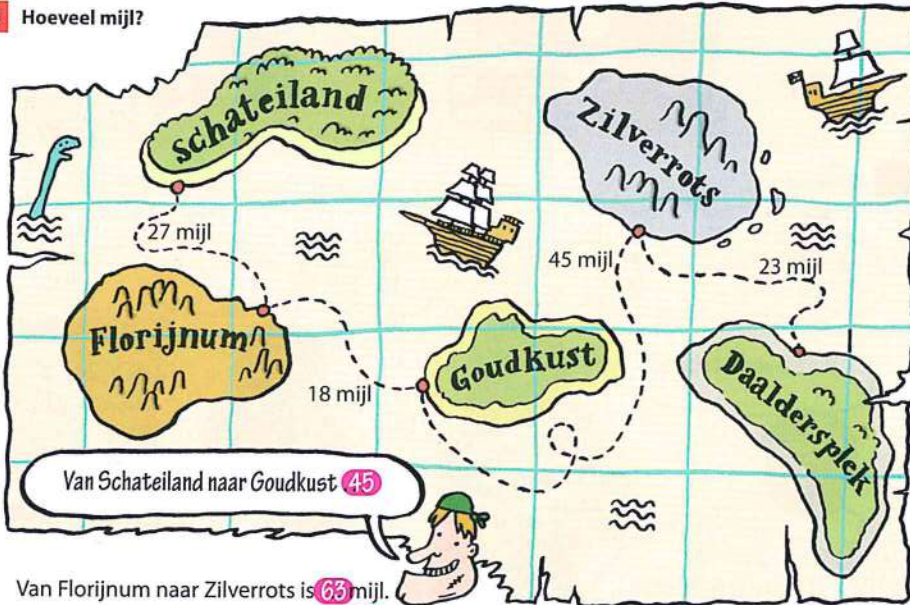
$9 \times 2 = 18$

$4 \times 3 = 12$

$9 \times 5 = 45$

$6 \times 4 = 24$

2 Hoeveel mijl?



Van Florijnum naar Zilverrots is 63 mijl.

Van Daaldersplek naar Goudkust is 68 mijl.

3 Hoeveel goudstukken samen?

a Schat a en b 83 goudstukken.

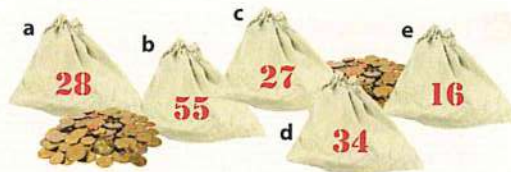
Schat a en c 55 goudstukken.

Schat b en c 82 goudstukken.

Schat a en d 62 goudstukken.

Schat c en e 43 goudstukken.

b Bedenk zelf nog vijf sommen.



1 Maak de sommen.

$8 + 7 = 15$

$8 + 5 = 13$

$9 + 6 = 15$

$7 + 5 = 12$

$7 + 8 = 15$

$5 + 8 = 13$

$6 + 9 = 15$

$5 + 7 = 12$

$15 - 7 = 8$

$13 - 5 = 8$

$15 - 6 = 9$

$12 - 5 = 7$

$15 - 8 = 7$

$13 - 8 = 5$


$15 - 9 = 6$

$12 - 7 = 5$

2 Hoeveel goudstukken kost het?

Hoeveel kosten
7 zakken?

$7 \times 2 = 14$



Hoeveel kosten
6 pikhaken?

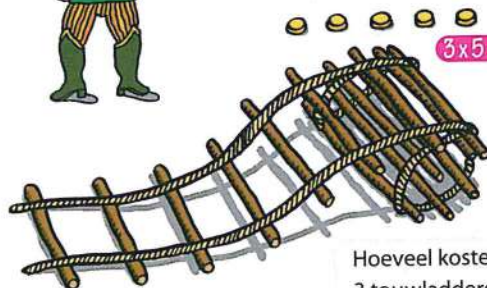


$6 \times 4 = 24$



$8 \times 3 = 24$

Hoeveel kosten
8 emmers?



$3 \times 5 = 15$

Hoeveel kosten
3 touwladders?

3 Hoeveel goudstukken kost het? Kijk bij opgave 2.

a 3 zakken scheepsbesluit 6

b 8 zakken scheepsbesluit 16

6 touwladders 30

7 touwladders 35

5 emmers 15

10 emmers 30

9 pikhaken 36

3 pikhaken 12

6 zakken scheepsbesluit 12

5 zakken scheepsbesluit 10



1 Hoe laat is het?



half 3



11 uur



kwart over 6



kwart over 12



kwart voor 7



half 3 's middags



5 uur 's middags



half 8 's avonds

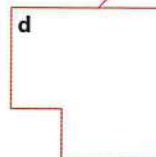
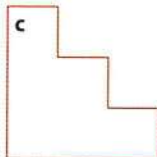





5 uur 's morgens



half 12 's morgens

2 Op welke plaats staan de schatkisten?




Ga verder met opgave 3, 4 en 5 op pagina 45 van je werkboek.

1 Hoeveel minder?



2 Hoeveel florijnen?



3 Hoeveel florijnen?

	15 florijnen minder
28 florijnen	13
41 florijnen	26
63 florijnen	48

	25 florijnen minder
37 florijnen	12
52 florijnen	27
94 florijnen	69

1 Maak de erafsommen.

$16 - 10 = 6$

$13 - 3 = 10$

$18 - 10 = 8$

$14 - 4 = 10$

$16 - 9 = 7$

$13 - 4 = 9$

$18 - 9 = 9$

$14 - 5 = 9$

$15 - 10 = 5$

$16 - 6 = 10$

$17 - 10 = 7$

$17 - 7 = 10$

$15 - 8 = 7$

$16 - 7 = 9$

$17 - 8 = 9$

$17 - 9 = 8$

2 Hoeveel mensen samen?

Van de Eikenweg komen
35 mensen. En van de
Dennenlaan 27.

$$35 + 20 = 55$$

$$55 + 7 = 62$$

Dat wordt
vast gezellig!



$35 + 20 = 55$

$55 + 5 = 60$

$60 + 2 = 62$

3 Maak de erbijssommen.

$30 + 25 = 55$

$43 + 27 = 70$

$42 + 25 = 67$

$47 + 40 = 87$

$72 + 18 = 90$

$54 + 43 = 97$

$58 + 12 = 70$

$33 + 45 = 78$

$28 + 26 = 54$

$62 + 9 = 71$

$50 + 28 = 78$

$37 + 37 = 74$

$25 + 17 = 42$

$34 + 16 = 50$

$45 + 38 = 83$