


Les 4 Week 3

Blok 2

1 Hoeveel minder?



2 Hoeveel florijnen?



3 Hoeveel florijnen?

	15 florijnen minder
28 florijnen	13
41 florijnen	26
63 florijnen	48

	25 florijnen minder
37 florijnen	12
52 florijnen	27
94 florijnen	69

## 1 Maak de erafsommen.

$16 - 10 = 6$	$13 - 3 = 10$	$18 - 10 = 8$	$14 - 4 = 10$
$16 - 9 = 7$	$13 - 4 = 9$	$18 - 9 = 9$	$14 - 5 = 9$
$15 - 10 = 5$	$16 - 6 = 10$	$17 - 10 = 7$	$17 - 7 = 10$
$15 - 8 = 7$	$16 - 7 = 9$	$17 - 8 = 9$	$17 - 9 = 8$

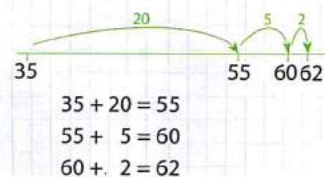

## 2 Hoeveel mensen samen?

Van de Eikenweg komen  
35 mensen. En van de  
Dennenlaan 27.

$$35 + 20 = 55$$

$$55 + 7 = 62$$

Dat wordt  
vast gezellig!



## 3 Maak de erbijsommen.

$30 + 25 = 55$	$43 + 27 = 70$	$42 + 25 = 67$
$47 + 40 = 87$	$72 + 18 = 90$	$54 + 43 = 97$
$58 + 12 = 70$	$33 + 45 = 78$	$28 + 26 = 54$
$62 + 9 = 71$	$50 + 28 = 78$	$37 + 37 = 74$
$25 + 17 = 42$	$34 + 16 = 50$	$45 + 38 = 83$

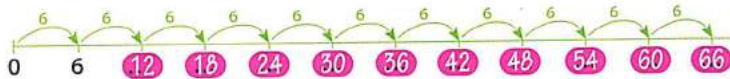
Les 2 Week 1

Blok 3

1 Reken uit.

$10 \times 4 = 40$	$10 \times 3 = 30$	$5 \times 5 = 25$	$5 \times 2 = 10$
$9 \times 4 = 36$	$5 \times 3 = 15$	$4 \times 5 = 20$	$6 \times 2 = 12$
$5 \times 4 = 20$	$4 \times 3 = 12$	$6 \times 5 = 30$	$7 \times 2 = 14$
$4 \times 4 = 16$	$2 \times 3 = 6$	$7 \times 5 = 35$	$10 \times 2 = 20$
$2 \times 4 = 8$	$9 \times 3 = 27$	$9 \times 5 = 45$	$9 \times 2 = 18$

2 Hoeveel spelers?



3 De tafel van 6.

$1 \times 6 = 6$	$6 \times 6 = 36$	$5 \times 6 = 30$	$3 \times 6 = 18$
$2 \times 6 = 12$	$7 \times 6 = 42$	$10 \times 6 = 60$	$6 \times 6 = 36$
$3 \times 6 = 18$	$8 \times 6 = 48$	$2 \times 6 = 12$	$9 \times 6 = 54$
$4 \times 6 = 24$	$9 \times 6 = 54$	$4 \times 6 = 24$	$7 \times 6 = 42$
$5 \times 6 = 30$	$10 \times 6 = 60$	$8 \times 6 = 48$	$11 \times 6 = 66$




1 Welke maat hoort erbij?

Kies uit: 1 m, 30 cm, 2 cm, 15 m, 100 cm en 50 cm.



2 Hoe lang ben jij?



3 Hoe meet je?



Ga verder met opgave 4 en 5 op pagina 47 van je werkboek.

Les 4 Week 1


Blok 3

1 Bedenk steeds drie sommen. Gebruik +, - en ×.

er zijn allerlei mogelijkheden

- ... + ... = 12      ... + ... = 20      ... + ... = 24      ... + ... = 30
- ... - ... = 12      ... - ... = 20      ... - ... = 24      ... - ... = 30
- ... × ... = 12      ... × ... = 20      ... × ... = 24      ... × ... = 30

2 Tel de tegels.



- 99 100 101 102 103 104 105 106 107 108 109 110 111
- 95 100 105 110 115 120 125 130 135 140 145 150 155
- 90 100 110 120 130 140 150 160

3 Schrijf de getallen op.

Sprongen van 1:

- 94 95 96 97 98 99 100 101 102 103 104 105 106

Sprongen van 10:

- 90 100 110 120 130 140 150 160 170 180 190 200 210

Sprongen van 5:

- 85 90 95 100 105 110 115 120 125 130 135 140 145

Sprongen van 5:

- ... ..

Week 2 Les 1

1 Reken uit.

$15 - 6 = 9$	$13 - 7 = 6$	$16 - 9 = 7$	$14 - 9 = 5$
$9 + 6 = 15$	$7 + 6 = 13$	$7 + 9 = 16$	$9 + 5 = 14$
$17 - 8 = 9$	$15 - 8 = 7$	$13 - 5 = 8$	$17 - 9 = 8$
$9 + 8 = 17$	$8 + 7 = 15$	$5 + 8 = 13$	$8 + 9 = 17$



2 Hoeveel folders nog?

$95 - 30 = 65$   
 $65 - 5 = 60$   
 $60 - 2 = 58$

95 folders.  
 Al 37 weg.  
 Nog  $95 - 30 = 65$   
 $65 - 7 = 58$

$58 \quad 60 \quad 65 \quad 95$   
 (Jumps: 2, 5, 30)

3 Maak de erafsommen.

$80 - 43 = 37$	$73 - 45 = 28$	$81 - 37 = 44$
$57 - 20 = 37$	$60 - 21 = 39$	$62 - 29 = 33$
$48 - 28 = 20$	$92 - 53 = 39$	$43 - 18 = 25$
$63 - 15 = 48$	$66 - 50 = 16$	$54 - 37 = 17$
$74 - 26 = 48$	$55 - 26 = 29$	$76 - 29 = 47$

Les 2 Week 2

Blok 3

1 Maak de keersommen.

$5 \times 4 = 20$	$10 \times 5 = 50$	$3 \times 3 = 9$	$10 \times 6 = 60$
$6 \times 4 = 24$	$9 \times 5 = 45$	$4 \times 3 = 12$	$9 \times 6 = 54$
$4 \times 4 = 16$	$8 \times 5 = 40$	$8 \times 3 = 24$	$8 \times 6 = 48$
$3 \times 4 = 12$	$4 \times 5 = 20$	$10 \times 3 = 30$	$5 \times 6 = 30$
$4 \times 3 = 12$	$5 \times 4 = 20$	$9 \times 3 = 27$	$4 \times 6 = 24$



2 Hoeveel moet je betalen?



3 Hoeveel betaal je?

a	prijs	korting		b	prijs	korting	
	€ 90	€ 15	€ 75		€ 85	€ 29	€ 56
	€ 69	€ 19	€ 50		€ 35	€ 16	€ 19
	€ 45	€ 17	€ 28		€ 79	€ 18	€ 61
	€ 75	€ 38	€ 37		€ 60	€ 13	€ 47
	€ 99	€ 30	€ 69		€ 73	€ 15	€ 58



1 Hoe laat is het?

 a kwart over 12 f  1 uur 's middags	 b half 7 g  half 9 's morgens	 c kwart voor 12 h  6 uur 's avonds	 d half 1 i  half 5 's middags	 e kwart voor 10 j  half 10 's avonds
---	---	--	---	--

2 Wat kun jij tillen?



3 Welk gewicht hoort erbij?

 a 1 kg 5 kg	 b 2 kg 2 kg	 c 40 kg 9 kg	 d 3200 kg 40 kg	 e 5 kg 1 kg	 f 9 kg 3200 kg
-----------------------	-----------------------	------------------------	---------------------------	-----------------------	--------------------------

Ga verder met opgave 4, 5 en 6 op pagina 49 van je werkboek.



Les 4 Week 2

Blok 3

1 Wat kun je kopen voor 50 euro?



En voor 40 euro? En voor 30 euro?

er zijn meerdere mogelijkheden

2 Wat is de nieuwe prijs?



3 Reken uit.

42 - 5 = 37  
 53 - 8 = 45  
 64 - 7 = 57  
 71 - 4 = 67  
 95 - 9 = 86

42 - 15 = 27  
 53 - 18 = 35  
 64 - 17 = 47  
 71 - 14 = 57  
 95 - 19 = 76

37 + 5 = 42  
 28 + 7 = 35  
 45 + 9 = 54  
 56 + 8 = 64  
 69 + 4 = 73

37 + 15 = 52  
 28 + 17 = 45  
 45 + 19 = 64  
 56 + 18 = 74  
 69 + 14 = 83

## 1 Reken uit.

$7 + 6 = 13$

$9 + 7 = 16$

$9 + 3 = 12$

$9 + 5 = 14$

$6 + 7 = 13$

$7 + 9 = 16$

$3 + 9 = 12$

$5 + 9 = 14$

$13 - 6 = 7$

$16 - 7 = 9$

$12 - 3 = 9$


$14 - 5 = 9$

$13 - 7 = 6$

$16 - 9 = 7$

$12 - 9 = 3$

$14 - 9 = 5$



## 2 Hoeveel kranten bezorgd?

In die straat bezorg ik 34 kranten. En in die straat 28. Dat is samen...

$34 + 20 = 54$

$54 + 8 = 62.$

Samen is dat meer dan 60.

$34 + 20 = 54$

$54 + 6 = 60$

$60 + 2 = 62$

Dennenstraat

Eikenweg



## 3 Maak de erbijsommen.

$40 + 34 = 74$

$52 + 19 = 71$

$64 + 18 = 82$

$19 + 70 = 89$

$71 + 20 = 91$

$75 + 17 = 92$

$37 + 13 = 50$

$48 + 24 = 72$

$58 + 26 = 84$

$71 + 9 = 80$

$37 + 35 = 72$

$47 + 38 = 85$

$14 + 17 = 31$

$19 + 22 = 41$

$52 + 29 = 81$

1 Oefentoets.

Maak de sommen op kopieerblad 13a.

- $3 \times 5 = \dots$     $7 \times 2 = \dots$     $10 \times 4 = \dots$     $2 \times 3 = \dots$     $4 \times 10 = \dots$     $4 \times 2 = \dots$     $7 \times 5 = \dots$   
 $7 \times 10 = \dots$     $9 \times 3 = \dots$     $5 \times 3 = \dots$     $6 \times 4 = \dots$     $3 \times 4 = \dots$     $10 \times 2 = \dots$     $5 \times 2 = \dots$   
 $9 \times 4 = \dots$     $4 \times 5 = \dots$     $9 \times 2 = \dots$     $8 \times 5 = \dots$     $6 \times 5 = \dots$     $2 \times 4 = \dots$     $8 \times 10 = \dots$

2 Hoeveel euro houden ze over?



3 Maak de erafsommen.

- |                |                |                |                |
|----------------|----------------|----------------|----------------|
| $87 - 30 = 57$ | $80 - 37 = 43$ | $62 - 13 = 49$ | $60 - 48 = 12$ |
| $65 - 8 = 57$  | $68 - 14 = 54$ | $55 - 50 = 5$  | $74 - 30 = 44$ |
| $43 - 17 = 26$ | $53 - 28 = 25$ | $40 - 23 = 17$ | $70 - 7 = 63$  |
| $90 - 58 = 32$ | $94 - 44 = 50$ | $77 - 15 = 62$ | $56 - 38 = 18$ |
| $81 - 40 = 41$ | $90 - 9 = 81$  | $52 - 17 = 35$ | $92 - 32 = 60$ |



## 1 Hoeveel krijg je terug?

je koopt voor:	je geeft:	
€ 63	 	€ 7
€ 41	  	€ 9
€ 45		€ 5
€ 34		€ 16
€ 72		€ 28

## 2 Een jaar op de kalender.



	januari	februari	maart
ma	3 10 17 24 31	7 14 21 28	6 13 20 27
di	4 11 18 25	1 8 15 22 29	7 14 21 28
wo	5 12 19 26	2 9 16 23	1 8 15 22 29
do	6 13 20 27	3 10 17 24	2 9 16 23 30
vr	7 14 21 28	4 11 18 25	3 10 17 24 31
za	1 8 15 22 29	5 12 19 26	4 11 18 25
zo	2 9 16 23 30	6 13 20 27	5 12 19 26

	april	mei	juni
ma	3 10 17 24	1 8 15 22 29	5 12 19 26
di	4 11 18 25	2 9 16 23 30	6 13 20 27
wo	5 12 19 26	3 10 17 24 31	7 14 21 28
do	6 13 20 27	4 11 18 25	1 8 15 22 29
vr	7 14 21 28	5 12 19 26	2 9 16 23 30
za	1 8 15 22 29	6 13 20 27	3 10 17 24
zo	2 9 16 23 30	7 14 21 28	4 11 18 25

	juli	augustus	september
ma	3 10 17 24 31	7 14 21 28	4 11 18 25
di	4 11 18 25	1 8 15 22 29	5 12 19 26
wo	5 12 19 26	2 9 16 23 30	6 13 20 27
do	6 13 20 27	3 10 17 24 31	7 14 21 28
vr	7 14 21 28	4 11 18 25	1 8 15 22 29
za	1 8 15 22 29	5 12 19 26	2 9 16 23 30
zo	2 9 16 23 30	6 13 20 27	3 10 17 24

	oktober	november	december
ma	2 9 16 23 30	6 13 20 27	4 11 18 25
di	3 10 17 24 31	7 14 21 28	5 12 19 26
wo	4 11 18 25	1 8 15 22 29	6 13 20 27
do	5 12 19 26	2 9 16 23 30	7 14 21 28
vr	6 13 20 27	3 10 17 24	1 8 15 22 29
za	7 14 21 28	4 11 18 25	2 9 16 23 30
zo	1 8 15 22 29	5 12 19 26	3 10 17 24 31



Ga verder met opgave 3, 4 en 5 op pagina 51 van je werkboek.

Les 4 Week 3

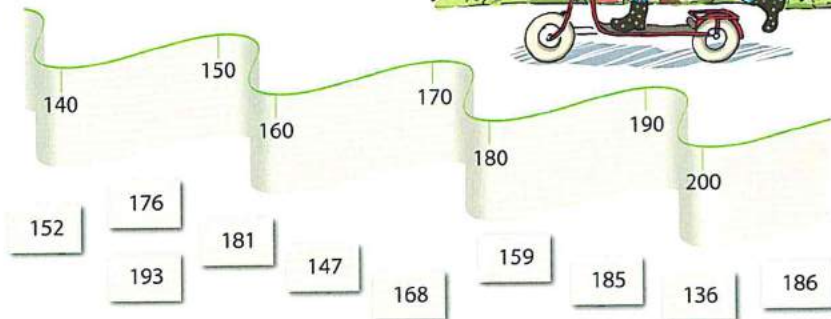
Blok 3

1 Hoeveel betaal je?

a	prijs	korting	
	€ 50	€ 5	€ 45
	€ 91	€ 20	€ 71
	€ 56	€ 9	€ 47
	€ 35	€ 6	€ 29
	€ 51	€ 12	€ 39

b	prijs	korting	
	€ 70	€ 20	€ 50
	€ 14	€ 3	€ 11
	€ 21	€ 5	€ 16
	€ 55	€ 11	€ 44
	€ 100	€ 13	€ 87

2 Waar past het kaartje op de getallenlijn?



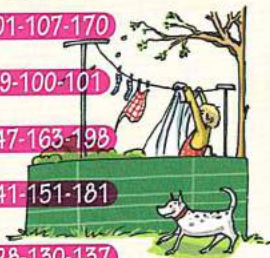
3 Getallen.

a Welke getallen vul je in?

151	152	153
183	184	185
166	167	168
190	191	192
174	175	176

b Zet in volgorde: van klein naar groot.

101	170	107	101-107-170
99	101	100	99-100-101
198	163	147	147-163-198
151	141	181	141-151-181
137	128	130	128-130-137



## 1 Maak de erafsommen.

$14 - 7 = 7$

$13 - 5 = 8$

$12 - 9 = 3$

$15 - 8 = 7$

$24 - 7 = 17$

$23 - 5 = 18$

$22 - 9 = 13$

$35 - 8 = 27$

$34 - 7 = 27$

$43 - 5 = 38$

$32 - 9 = 23$

$65 - 8 = 57$

$54 - 7 = 47$

$63 - 5 = 58$

$52 - 9 = 43$

$85 - 8 = 77$

$74 - 7 = 67$

$83 - 5 = 78$

$82 - 9 = 73$

$95 - 8 = 87$



## 2 Hoeveel meisjes?

95 kinderen ...  
van wie  
47 jongens

Dan zijn er dus  
 $95 - 40 = 55$  en  
 $55 - 7 = 48$  meisjes!



## 3 Maak de erafsommen.

$45 - 23 = 22$

$34 - 17 = 17$

$88 - 49 = 39$

$62 - 42 = 20$

$43 - 26 = 17$

$96 - 68 = 28$

$80 - 59 = 21$

$82 - 65 = 17$

$75 - 47 = 28$

$73 - 60 = 13$

$91 - 48 = 43$

$80 - 56 = 24$

$56 - 36 = 20$

$75 - 39 = 36$

$99 - 48 = 51$

## Les 2 Week 4

Blok 3

## 1 Maak de keersommen.

$6 \times 4 = 24$	$5 \times 3 = 15$	$9 \times 2 = 18$	$7 \times 5 = 35$
$9 \times 2 = 18$	$8 \times 5 = 40$	$7 \times 4 = 28$	$8 \times 3 = 24$
$3 \times 4 = 12$	$7 \times 2 = 14$	$9 \times 3 = 27$	$8 \times 2 = 16$
$6 \times 5 = 30$	$4 \times 3 = 12$	$8 \times 4 = 32$	$9 \times 5 = 45$
$7 \times 3 = 21$	$6 \times 2 = 12$	$6 \times 3 = 18$	$9 \times 4 = 36$

## 2 Hoeveel moet je betalen?



## 3 Hoeveel kost het samen?

Je neemt:

- a frites met kip, 1 bamischijf en 1 slaatje;  $8 + 2 + 2 = € 12$
- b frites met 1 gehaktbal en 2 frikadellen;  $6 + 4 = € 10$
- c frites met saté en 2 slaatjes;  $7 + 4 = € 11$
- d frites met kroket, frites met kip en frites met saté;  $5 + 8 + 7 = € 20$
- e 3 keer frites met kip, 1 slaatje en 1 frikadel.  $24 + 2 + 2 = € 28$



## 1 Hoe laat is het?



## 2 Het dorpsplein.



Ga verder met opgave 3 en 4 op pagina 53 van je werkboek.



Les 4 Week 4

Blok 3


1 Maak de erafsommen.

$60 - 10 = 50$     $80 - 30 = 50$     $90 - 60 = 30$     $100 - 70 = 30$   
 $60 - 12 = 48$     $80 - 36 = 44$     $90 - 68 = 22$     $100 - 79 = 21$   
 $50 - 20 = 30$     $40 - 20 = 20$     $70 - 30 = 40$     $60 - 40 = 20$   
 $50 - 23 = 27$     $40 - 27 = 13$     $70 - 35 = 35$     $60 - 45 = 15$



2 Hoeveel auto's kunnen er nog bij?

Er staan al  
88 auto's in de garage.  
 $88 + 2 = 90$ ,  
 $90 + 10 = 100$ .  
Er kunnen dus nog  
12 auto's bij.



3 Hoeveel kunnen er nog bij?

a In de parkeergarage passen 80 auto's.

er staan:

- 75 auto's **5**
- 60 auto's **20**
- 69 auto's **11**
- 45 auto's **35**
- 28 auto's **52**

b In de parkeergarage passen 100 auto's.

er staan:

- 92 auto's **8**
- 85 auto's **15**
- 78 auto's **22**
- 64 auto's **36**
- 49 auto's **51**

## 1 Oefentoets.

 Maak de sommen op kopieerblad 12a.

$9+3=...$     $4+8=...$     $7+1=...$     $2+7=...$     $8+2=...$     $6+5=...$     $5+7=...$

$8+9=...$     $7+6=...$     $5+8=...$     $9+7=...$     $6+7=...$     $8+5=...$     $9+2=...$

$7+8=...$     $9+5=...$     $9+6=...$     $6+8=...$     $7+4=...$     $4+9=...$     $3+8=...$

## 2 Hoeveel kilometer nog?



## 3 Hoeveel kilometer nog?



- Je hebt 45 km gereden.  5
- Je hebt 37 km gereden.  13
- Je hebt 41 km gereden.  9
- Je hebt 32 km gereden.  18
- Je hebt 48 km gereden.  2



- Je hebt 78 km gereden.  7
- Je hebt 69 km gereden.  16
- Je hebt 83 km gereden.  2
- Je hebt 72 km gereden.  13
- Je hebt 65 km gereden.  20

Les 2 Week 1

Blok 4

1 Reken uit.

x	2	3	4
2	4	6	8
4	8	12	16
8	16	24	32

x	3	4	5
3	9	12	15
6	18	24	30
7	21	28	35

x	2	4	10
10	20	40	100
9	18	36	90
5	10	20	50

2 Hoeveel geld te weinig?

a Lotte heeft € 19.



b Sam heeft € 48.



3 Hoeveel te weinig?

Vera



Sanne





1 Hoe laat is het?



half 9



1 uur



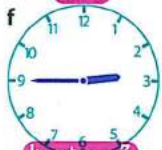
kwart voor 11



kwart over 2



half 11



kwart voor 3



kwart over 5



6 uur



half 5



kwart voor 6



half 8 's morgens



half 11 's morgens



half 6 's middags



half 10 's avonds



half 4 's middags

2 Hoeveel tenten zijn er nodig?



5 tenten



7 tenten



8 tenten



7 tenten



Ga verder met opgave 3 op pagina 55 van je werkboek.

1 Wat is het dubbele?

€ 10 → € 20  
 € 40 → € 80  
 € 33 → € 66  
 € 24 → € 48  
 € 25 → € 50

€ 26 → € 52  
 € 35 → € 70  
 € 17 → € 34  
 € 39 → € 78  
 € 46 → € 92



2 Getallen boven de 100.



3 Hoeveel euro?



400



350



500



430



440

1 Maak de erafsommen.


$14 - 8 = 6$	$12 - 7 = 5$	$16 - 9 = 7$	$17 - 8 = 9$
$24 - 8 = 16$	$22 - 7 = 15$	$36 - 9 = 27$	$57 - 8 = 49$
$34 - 8 = 26$	$32 - 7 = 25$	$46 - 9 = 37$	$77 - 8 = 69$
$44 - 8 = 36$	$62 - 7 = 55$	$66 - 9 = 57$	$87 - 8 = 79$
$54 - 8 = 46$	$82 - 7 = 75$	$86 - 9 = 77$	$97 - 8 = 89$



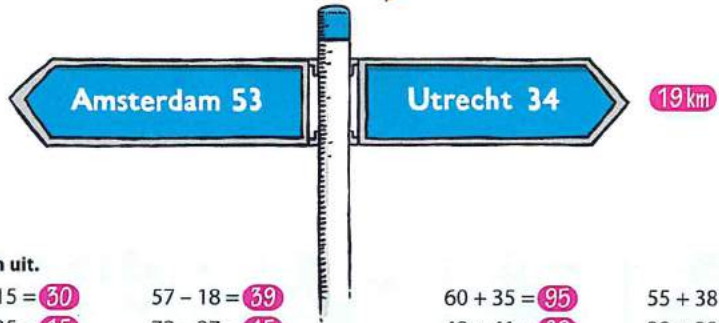
2 Hoeveel kilometer?

a Hoeveel kilometer samen?

We rijden eerst 36 kilometer naar mijn tante. Daarna nog 37 kilometer naar de camping.



b Hoeveel kilometer verschil?



3 Reken uit.

$45 - 15 = 30$	$57 - 18 = 39$	$60 + 35 = 95$	$55 + 38 = 93$
$50 - 35 = 15$	$72 - 27 = 45$	$48 + 41 = 89$	$29 + 39 = 68$
$75 - 60 = 15$	$36 - 28 = 8$	$52 + 28 = 80$	$67 + 28 = 95$
$38 - 17 = 21$	$53 - 40 = 13$	$73 + 15 = 88$	$39 + 57 = 96$
$53 - 4 = 49$	$46 - 29 = 17$	$56 + 25 = 81$	$24 + 68 = 92$

Les 2 Week 2


Blok 4

1 Hoeveel te weinig?

je hebt:	je moet betalen:	
€ 39	€ 80	41
€ 42	€ 74	32
€ 33	€ 61	28
€ 27	€ 46	19
€ 52	€ 91	39

je hebt:	je moet betalen:	
€ 27	€ 53	26
€ 28	€ 47	19
€ 56	€ 64	8
€ 68	€ 79	11
€ 87	€ 96	9

2 Welk netje?



3 Wat staat er onder het bolletje ijs?

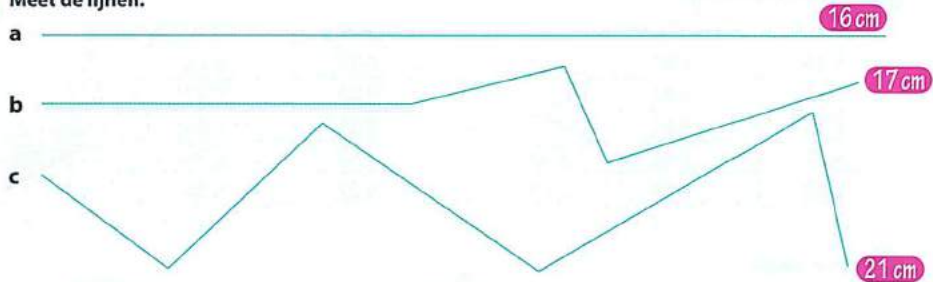
$3 \times 4 = 12$   
 $4 \times 4 = 16$   
 $4 \times 5 = 20$   
 $3 \times 2 = 6$   
 $3 \times 3 = 9$

$6 \times 0 = 0$   
 $6 \times 6 = 36$   
 $7 \times 1 = 7$   
 $7 \times 2 = 14$   
 $7 \times 4 = 28$

$10 \times 4 = 40$   
 $9 \times 4 = 36$   
 $8 \times 4 = 32$   
 $8 \times 2 = 16$   
 $8 \times 3 = 24$




## 1 Meet de lijnen.



## 2 Hoeveel moeten ze betalen?

$$4 + 4 \times 6 + 2 \times 8 = \text{€ } 44$$



Ga verder met opgave 3, 4 en 5 op pagina 57 van je werkboek.



Les 4 Week 2


Blok 4

1 Hoeveel kost het nu?

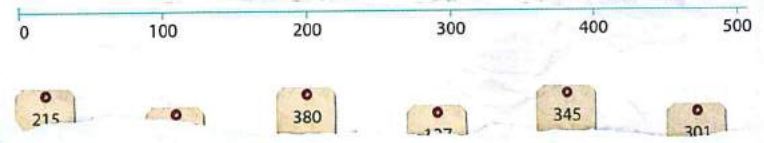
Alle  
kinderkleding  
nu voor de halve  
prijs.

truien	€ 20	10	sjaals	€ 10	5
jassen	€ 100	50	blouses	€ 30	15
jacks	€ 60	30	schoenen	€ 50	25
T-shirts	€ 14	7	laarzen	€ 22	11
broeken	€ 28	14	rokken	€ 34	17

2 Waar zijn ze ongeveer?



3 Maak de kaartjes vast aan de getallenlijn.



Maak opgave 1 op pagina 56 van je werkboek.

## 1 Splitsen.

12	
6	6
9	3
8	4
5	7
2	10

13	
7	6
5	8
4	9
5	8
11	2

14	
9	5
8	6
11	3
12	2
7	7

15	
7	8
6	9
12	3
2	13
5	10



## 2 Hoeveel minuten?

Het eerste stuk in 28 minuten!

Het tweede in 37 minuten.

samen 65 min.

Ik?  
Het hele stuk in 54 minuten!



## 3 Reken uit.

$48 - 28 = 20$

$55 - 17 = 38$

$40 + 55 = 95$

$46 + 37 = 83$

$70 - 63 = 7$

$92 - 46 = 46$

$38 + 39 = 77$

$19 + 68 = 87$

$85 - 70 = 15$

$66 - 58 = 8$

$51 + 49 = 100$

$57 + 29 = 86$

$36 - 12 = 24$

$98 - 48 = 50$

$63 + 28 = 91$

$26 + 67 = 93$

$72 - 3 = 69$

$47 - 29 = 18$

$33 + 57 = 90$

$38 + 59 = 97$

Les 2 Week 3

Blok 4

1 Wat staat er onder de vlekken?

~~4~~ × 5 = 20

3 × ~~5~~ = 15

6 × 4 = ~~24~~

9 × ~~3~~ = 27

~~6~~ × 5 = 30

8 × ~~4~~ = 32

6 × ~~3~~ = 18

~~7~~ × 2 = 14

~~1~~ × 10 = 10

7 × 3 = ~~21~~

~~8~~ × 3 = 24

5 × ~~5~~ = 25

4 × ~~4~~ = 16

8 × 2 = ~~16~~

~~8~~ × 5 = 40

2 Hoeveel bladzijden nog?



3 Hoeveel bladzijden nog?

je bent op blz.:	er zijn ... blz.
58	63
18	31
29	44
48	65
26	45


- 5
- 13
- 15
- 17
- 19

je bent op blz.:	er zijn ... blz.
62	83
89	98
65	86
48	63
57	73

- 21
- 9
- 21
- 15
- 16



## 1 Hoeveel euro krijg je terug?

het kost:	je geeft:		het kost:	je geeft:	
€ 35		€ 5	€ 67		€ 33
€ 60		€ 40	€ 6		€ 44
€ 81		€ 19	€ 56		€ 14
€ 17		€ 33	€ 18		€ 32
€ 49		€ 11	€ 73		€ 17

## 2 Hoe duur zijn de parkeerplaatsen?



Ga verder met opgave 3 en 4 op pagina 59 van je werkboek.

Les 4 Week 3

Blok 4

1 Reken het verschil uit.



- |                |    |                |    |
|----------------|----|----------------|----|
| 51 km en 46 km | 5  | 48 km en 28 km | 20 |
| 17 km en 9 km  | 8  | 76 km en 57 km | 19 |
| 34 km en 25 km | 9  | 88 km en 69 km | 19 |
| 63 km en 56 km | 7  | 99 km en 75 km | 24 |
| 95 km en 78 km | 17 | 57 km en 28 km | 29 |

2 In welk parkeervak horen de auto's?

0 - 50	51 - 100	101 - 150	151 - 200	201 - 250	251 - 300
--------	----------	-----------	-----------	-----------	-----------

3 In welk parkeervak horen de auto's?



Maak opgave 2 op pagina 58 van je werkboek.

## 1 Maak de sommen.

$46 + 4 = 50$

$78 + 2 = 80$

$34 + 6 = 40$

$67 + 3 = 70$

$53 + 7 = 60$

$80 - 4 = 76$

$70 - 5 = 65$

$90 - 6 = 84$

$60 - 3 = 57$

$100 - 7 = 93$

$40 - 3 = 37$

$30 - 2 = 28$

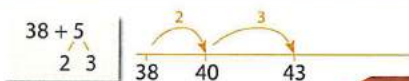
$20 - 8 = 12$

$50 - 4 = 46$

$100 - 6 = 94$



## 2 Reken uit. Je mag de lege getallenlijn gebruiken.



38 dozen en  
nog 5 erbij is...

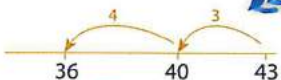
$38 + 5 = 43$

$29 + 4 = 33$

$47 + 6 = 53$

$85 + 7 = 92$

$19 + 8 = 27$



$$\begin{array}{r} 43 - 7 \\ \underline{3 \quad 4} \end{array}$$

43 dozen. Ik heb  
7 dozen nodig.

$43 - 7 = 36$

$56 - 8 = 48$

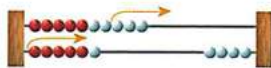
$22 - 9 = 13$

$45 - 8 = 37$

$91 - 6 = 85$



## 3 Maak de erasommen.



$16 - 9 =$

$13 - 5 = 8$

$15 - 7 = 8$

$11 - 6 = 5$

$17 - 8 = 9$

$14 - 7 = 7$

$14 - 8 = 6$

$16 - 9 = 7$

$13 - 7 = 6$

$12 - 7 = 5$

$15 - 8 = 7$

$11 - 9 = 2$

$13 - 8 = 5$

$16 - 7 = 9$

$12 - 8 = 4$

$14 - 9 = 5$