



**3 Rekenen met getalkaartjes.**


Je hebt deze kaartjes:



- a Tel alle getallen op. **45**
- b Maak 3 groepjes van 3 getallen die samen 15 zijn.  **$1+9+5$ ,  $2+6+7$ ,  $3+4+8$**   
Je mag de getallen maar één keer gebruiken.

**4 Rekenen met getalkaartjes.**

Je hebt deze kaartjes:

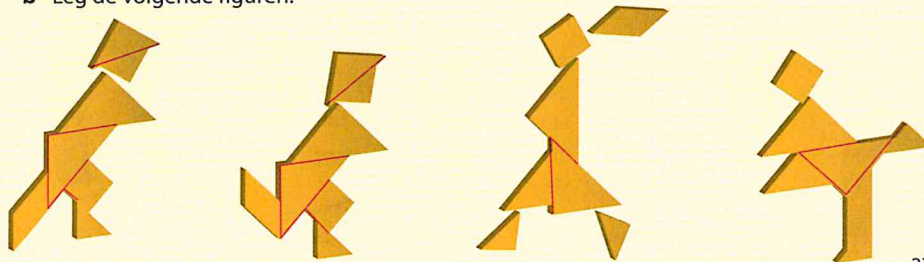


- a Tel alle getallen op. **90**
- b Maak 3 groepjes van 3 getallen die samen 30 zijn.  **$6+14+10$ ,  $7+11+12$ ,  $8+9+13$**   
Je mag de getallen maar één keer gebruiken.



**5 Tangram.**

- a Knip de tangramstukken op kopieerblad 4 uit.
- b Leg de volgende figuren:

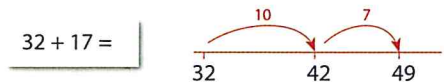


Blok 2 Week 1 Taak 

1 Reken handig uit.

$3 \times 3 = 9$	$2 \times 4 = 8$	$4 \times 5 = 20$
$6 \times 3 = 18$	$4 \times 4 = 16$	$8 \times 5 = 40$
$9 \times 3 = 27$	$8 \times 4 = 32$	$9 \times 5 = 45$
$8 \times 3 = 24$	$7 \times 4 = 28$	$5 \times 9 = 45$
$3 \times 8 = 24$	$6 \times 4 = 24$	$7 \times 5 = 35$


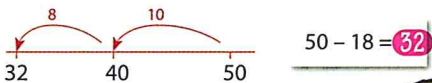
2 Reken uit.




$32 + 17 = 49$	$48 + 21 = 69$
$20 + 14 = 34$	$70 + 19 = 89$
$54 + 12 = 66$	$18 + 41 = 59$
$40 + 24 = 64$	$57 + 22 = 79$
$35 + 14 = 49$	$42 + 26 = 68$



3 Maak de erafsommen.



$50 - 18 = 32$	$67 - 30 = 37$
$60 - 19 = 41$	$92 - 21 = 71$
$65 - 23 = 42$	$40 - 13 = 27$
$34 - 12 = 22$	$58 - 40 = 18$
$37 - 16 = 21$	$76 - 24 = 52$

 Ga verder met opgave 1 op pagina 40 van je werkboek.

 **Opdracht**  
Week 1


 **Taak**

**Week 1**

Blok 2

**1** Hoe laat is het? Schrijf het op in woorden.

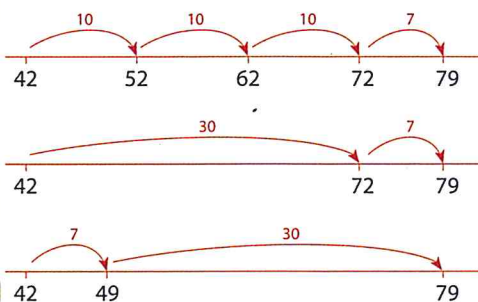


 Ga verder met opgave 2 op pagina 40 van je werkboek.

**2** Hoeveel samen?



$$42 + 37 = 79$$



$31 + 28 = 59$

$56 + 33 = 89$

$65 + 13 = 78$

$23 + 15 = 38$

$60 + 24 = 84$

$37 + 30 = 67$

$65 + 20 = 85$

$82 + 17 = 99$

$62 + 26 = 88$

$44 + 43 = 87$

$52 + 10 = 62$

$20 + 54 = 74$

$50 + 27 = 77$

$21 + 78 = 99$

$73 + 25 = 98$

**3** Maak de sommen.

$7 + 5 = 12$

$4 + 9 = 13$

$8 + 7 = 15$

$9 + 6 = 15$

$5 + 7 = 12$

$9 + 4 = 13$

$7 + 8 = 15$

$6 + 9 = 15$

$12 - 5 = 7$

$13 - 4 = 9$

$15 - 7 = 8$

$15 - 6 = 9$

$12 - 7 = 5$

$13 - 9 = 4$

$15 - 8 = 7$

$15 - 9 = 6$



Blok 2 Week 1 Taak ★

4 Hoeveel krijg je terug?

Je betaalt met:



€ 29,-



€ 37,-



- a € 32
- b € 35
- c € 21
- d € 19
- e € 13



€ 18,-

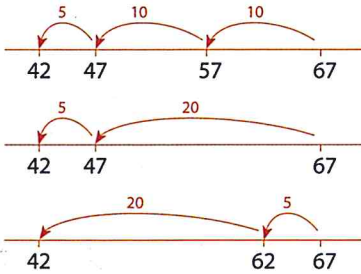


€ 15,-




€ 31,-

5 Hoe reken jij? Je mag de lege getallenlijn gebruiken.



67 - 25 =



- 67 - 25 = 42
- 84 - 43 = 41
- 29 - 15 = 14
- 50 - 24 = 26
- 78 - 16 = 62

- 94 - 51 = 43
- 67 - 40 = 27
- 30 - 18 = 12
- 55 - 33 = 22
- 46 - 14 = 32

- 37 - 22 = 15
- 40 - 27 = 13
- 75 - 54 = 21
- 91 - 50 = 41
- 88 - 63 = 25

6 Hoeveel?



5 × 5 = 25 sinaasappels



7 × 4 = 28 munten  
4 × 7



9 × 4 = 36 goudstaven



9 × 2 = 18 euro



3 × 6 = 18 tegels  
6 × 3

Ga verder met opgave 3 op pagina 40 van je werkboek.



Taak

Week 1

Blok 2

**1 Betalen op Schateiland.**

Op Schateiland hebben ze munten van 1, 2, 4, 8, 16 en 32 florijn.

a Wat zijn alle munten samen waard? **63**

b Betaal gepast. Je mag alle munten maar één keer gebruiken.



**2 Schatten zoeken.**

Op het strand liggen allemaal schatkisten.

Op de kisten staat hoeveel florijnen er in zitten.

Zoek kisten waar samen 60, 70, 80 en 90 florijnen in zitten.

Het kan op twee manieren: met twee kisten en met drie kisten.


$60: 55 + 5 / 45 + 15 / 35 + 25 /$

$45 + 10 + 5 / 35 + 20 + 5 /$

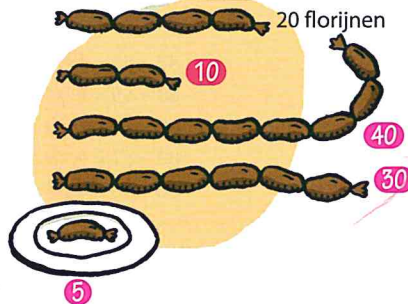
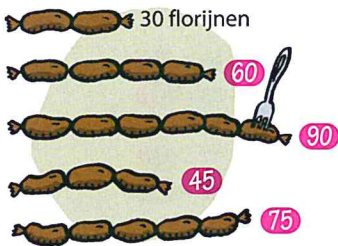
$30 + 10 + 20 / 25 + 30 + 5 /$

$11 + 19 + 30$

*Kortom: er zijn meerdere mogelijkheden*



**3 Wat kosten de worsten?**

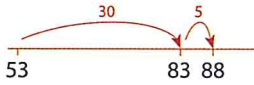


Blok 2

Week 2 Taak 

## 1 Maak de erbijsommen.

$53 + 35 =$



$53 + 30 = 83$

$62 + 20 = 82$

$21 + 40 = 61$

$53 + 35 = 88$

$62 + 25 = 87$

$21 + 46 = 67$

$53 + 32 = 85$

$62 + 23 = 85$

$21 + 43 = 64$

$53 + 36 = 89$


$62 + 27 = 89$

$21 + 48 = 69$

$53 + 37 = 90$

$62 + 28 = 90$

$21 + 49 = 70$



## 2 Kies het goede antwoord.

$7 \times 2 =$   12  14

$4 \times 3 =$   12  14

$5 \times 4 =$   20  24

$6 \times 3 =$   18  15

$7 \times 4 =$   26  28

$8 \times 3 =$   24  28

$4 \times 4 =$   14  16

$6 \times 2 =$   12  16

$8 \times 2 =$   18  16

$8 \times 4 =$   32  36

$6 \times 4 =$   24  26

$7 \times 3 =$   21  24

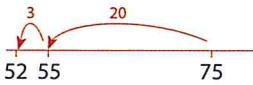
$9 \times 2 =$   18  19

$9 \times 3 =$   24  27

$9 \times 4 =$   32  36



## 3 Maak de erafsommen. Gebruik de lege getallenlijn.



$75 - 23 =$

$75 - 20 = 55$

$88 - 50 = 38$

$70 - 30 = 40$

$75 - 23 = 52$

$88 - 55 = 33$

$70 - 33 = 37$

$75 - 21 = 54$

$88 - 53 = 35$

$70 - 35 = 35$

$75 - 24 = 51$

$88 - 57 = 31$

$70 - 37 = 33$

$75 - 25 = 50$

$88 - 58 = 30$

$70 - 39 = 31$



Ga verder met opgave 1 op pagina 42 van je werkboek.



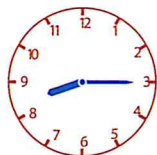


Taak

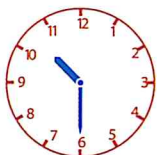
Week 2

Blok 2

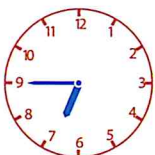
1 Hoe laat is het? Schrijf het in woorden op.



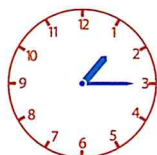
kwart over 8



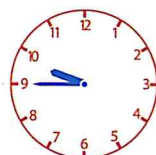
half 11



kwart voor 7



kwart over 1



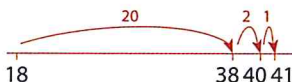
kwart voor 10



Ga verder met opgave 2 op pagina 42 van je werkboek.

2 Hoe reken jij de som uit?

18 + 23 =



18 + 23 = 41

58 + 22 = 80

73 + 27 = 100

32 + 25 = 57

67 + 14 = 81

81 + 18 = 99

17 + 14 = 31

62 + 20 = 82

23 + 36 = 59

44 + 50 = 94

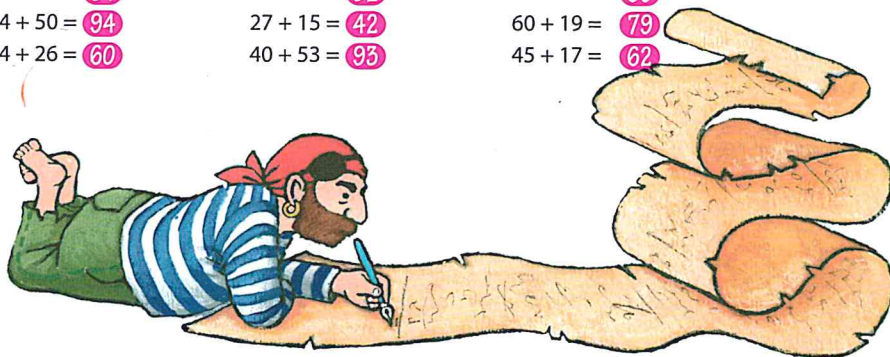
27 + 15 = 42

60 + 19 = 79

34 + 26 = 60

40 + 53 = 93

45 + 17 = 62



3 Reken uit.

62 + 8 = 70

53 + 7 = 60

44 + 6 = 50

70 - 8 = 62

60 - 7 = 53

50 - 6 = 44

27 + 3 = 30

71 + 9 = 80

35 + 5 = 40

30 - 3 = 27

80 - 9 = 71

40 - 5 = 35

Blok 2


Week 2 Taak 

## 4 Splitsen.

13	
4	9
6	7
8	5
8	5
3	10

15	
9	6
11	4
7	8
10	5
2	13

14	
6	8
5	9
4	10
7	7
3	11

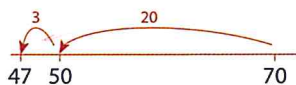


## 5 Reken uit.

$70 - 23 = ?$



70 florijnen ...  
hoeveel houd ik  
over?



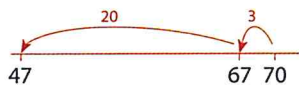
$70 - 23 = 47$

$74 - 44 = 30$

$50 - 17 = 33$

$44 - 15 = 29$

$65 - 25 = 40$



$67 - 30 = 37$

$33 - 16 = 17$

$51 - 24 = 27$

$80 - 32 = 48$

$46 - 23 = 23$

$89 - 39 = 50$

$68 - 27 = 41$

$70 - 19 = 51$

$85 - 40 = 45$

$72 - 14 = 58$

## 6 Reken handig.

$33 - 30 = 3$

$33 - 29 = 4$

$46 - 20 = 26$

$46 - 18 = 28$

$54 - 50 = 4$

$54 - 48 = 6$

$85 - 60 = 25$

$85 - 57 = 28$

$92 - 90 = 2$


$92 - 87 = 5$

$77 - 40 = 37$

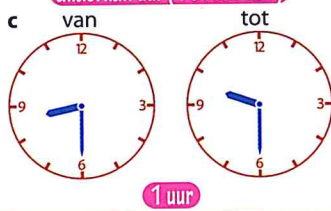
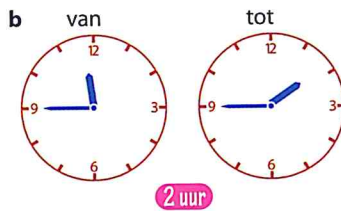
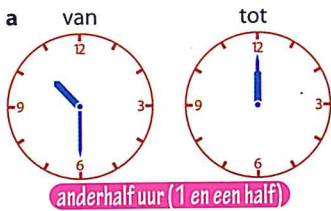
$77 - 39 = 38$



1 Welk getal komt er uit de machine?



2 Hoe lang duurt het?



3 Splitsen.

73	
13	60
33	40
53	20
63	10
43	30

90	
4	86
44	46
74	16
54	36
14	76

80	
76	4
56	24
24	56
53	27
47	33



Blok 2

Week 3

Taak



## 1 Hoeveel houd je over?

a Je hebt € 45.

Je koopt:

€ 38



b Je hebt € 36.

Je koopt:

€ 28



c Je hebt € 53.

Je koopt:

€ 44



d Je hebt € 61.

Je koopt:

€ 55



e Je hebt € 74.

Je koopt:

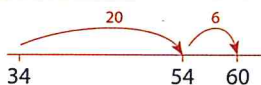
€ 65



Ga verder met opgave 1 op pagina 44 van je werkboek.

## 2 Maak de erbijsommen.

$$34 + 26 =$$



$$34 + 26 = 60$$

$$14 + 82 = 96$$

$$23 + 15 = 38$$

$$50 + 26 = 76$$

$$48 + 20 = 68$$

$$77 + 13 = 90$$

$$40 + 53 = 93$$

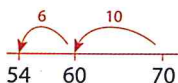
$$57 + 30 = 87$$

$$13 + 17 = 30$$

$$60 + 38 = 98$$



## 3 Maak de erafsommen.



$$70 - 16 =$$

$$70 - 16 = 54$$

$$58 - 20 = 38$$

$$60 - 25 = 35$$

$$42 - 12 = 30$$

$$52 - 6 = 46$$

$$72 - 40 = 32$$

$$34 - 20 = 14$$

$$80 - 24 = 56$$

$$34 - 9 = 25$$

$$26 - 7 = 19$$

$$63 - 23 = 40$$

$$40 - 13 = 27$$

$$40 - 19 = 21$$


$$90 - 11 = 79$$

$$69 - 19 = 50$$



Ga verder met opgave 2 op pagina 44 van je werkboek.

1 Hoeveel piraten op elk schip?



2 Hoeveel schepen heb je nodig?

Op elk schip kunnen 4 piraten.


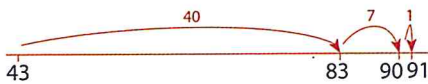
- Voor 32 piraten heb je 8 schepen nodig.
- Voor 16 piraten heb je 4 schepen nodig.
- Voor 40 piraten heb je 10 schepen nodig.
- Voor 36 piraten heb je 9 schepen nodig.
- Voor 24 piraten heb je 6 schepen nodig.

Op elk schip kunnen 5 piraten.

- Voor 35 piraten heb je 7 schepen nodig.
- Voor 50 piraten heb je 10 schepen nodig.
- Voor 15 piraten heb je 3 schepen nodig.
- Voor 40 piraten heb je 8 schepen nodig.
- Voor 25 piraten heb je 5 schepen nodig.

3 Maak de erbijsommen.

43 + 48 =



- |              |              |              |
|--------------|--------------|--------------|
| 43 + 48 = 91 | 45 + 20 = 65 | 50 + 35 = 85 |
| 34 + 17 = 51 | 29 + 21 = 50 | 57 + 14 = 71 |
| 19 + 32 = 51 | 55 + 18 = 73 | 31 + 19 = 50 |
| 76 + 10 = 86 | 36 + 37 = 73 | 58 + 30 = 88 |
| 24 + 16 = 40 | 60 + 27 = 87 | 65 + 15 = 80 |



Blok 2

Week 3

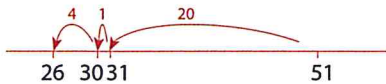
Taak 

## 4 Hoeveel duurder?



a  $\text{€}18,-$   $\text{€}5$   $\text{€}23,-$   
 b  $\text{€}25,-$   $\text{€}31,-$   $\text{€}6$   
 c  $\text{€}49,-$   $\text{€}55,-$   $\text{€}6$   
 d  $\text{€}38,-$   $\text{€}8$   $\text{€}46,-$   
 e  $\text{€}56,-$   $\text{€}9$   $\text{€}65,-$   
 f  $\text{€}84,-$   $\text{€}7$   $\text{€}77,-$

## 5 Maak de erafsommen.



$51 - 25 =$

$51 - 20 = 31$

$31 - 1 = 30$

$30 - 4 = 26$

$51 - 25 = 26$

$49 - 29 = 20$

$70 - 46 = 24$

$20 - 12 = 8$

$59 - 36 = 23$

$42 - 27 = 15$

$39 - 20 = 19$

$65 - 40 = 25$

$58 - 19 = 39$

$57 - 26 = 31$

$51 - 37 = 14$

$92 - 70 = 22$

$63 - 23 = 40$

$50 - 24 = 26$

$81 - 21 = 60$

## 6 Reken handig.

$42 - 40 = 2$

$73 - 70 = 3$

$84 - 80 = 4$

$42 - 38 = 4$

$73 - 66 = 7$

$84 - 77 = 7$

$57 - 30 = 27$

$95 - 60 = 35$

$66 - 20 = 46$

$57 - 29 = 28$

$95 - 57 = 38$

$66 - 18 = 48$



Ga verder met opgave 3 op pagina 44 van je werkboek.



1 Alles is goedkoper. Hoe groot is het verschil?

**supermarkt Sparrenboom** *reclame*

appelmoes 49	appelmoes 38	11
bonen 53	bonen 45	8
rijst 79	rijst 65	14
sla 68	sla 50	18
wortelen 90	wortelen 78	12

**supermarkt Grutter** *reclame*

boter 95	boter 89	6
thee 78	thee 69	9
soep 58	soep 45	13
drop 75	drop 58	17
melk 55	melk 39	16

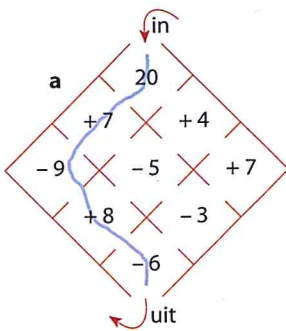
2 Schrijf de helft en het dubbele op.

getal	40	60	10	30	50	70	82	100
de helft	20	30	5	15	25	35	41	50

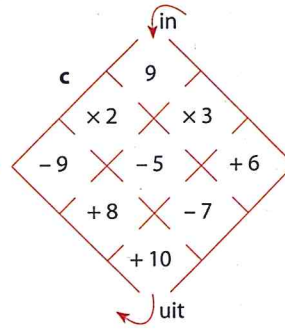
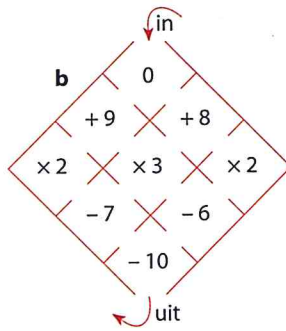
getal	5	20	25	40	15	50	35	42
het dubbele	10	40	50	80	30	100	70	84

3 Ga op 4 manieren door elke doolhof.

Reken de sommen uit.



$$20 + 7 - 9 + 8 - 6 = 20$$



kan op allerlei manieren

Blok 2

Week 4 Na de toets ★

## 1 Maak de sommen.

$34 + 6 = 40$

$67 + 3 = 70$

$75 + 5 = 80$

$86 + 4 = 90$

$28 + 2 = 30$

$20 - 7 = 13$

$30 - 6 = 24$

$40 - 3 = 37$

$50 - 4 = 46$

$60 - 2 = 58$

$70 - 5 = 65$

$90 - 8 = 82$

$80 - 6 = 74$

$60 - 4 = 56$

$80 - 7 = 73$



## 2 Wat komt er uit de machientjes?



in	uit
8	15
25	32
37	44
56	63
49	56




in	uit
5	13
58	66
87	95
64	72
46	54



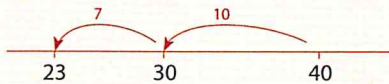
in	uit
13	6
24	7
52	45
45	38
31	24



in	uit
15	7
63	55
92	84
84	76
76	68



## 3 Maak de sommen.



$40 - 17 =$

$40 - 10 = 30$

$40 - 17 = 23$

$40 - 15 = 25$

$40 - 12 = 28$

$40 - 14 = 26$

$68 - 30 = 38$

$68 - 32 = 36$

$68 - 36 = 32$

$68 - 34 = 34$

$68 - 38 = 30$

$97 - 50 = 47$

$97 - 52 = 45$

$97 - 54 = 43$

$97 - 56 = 41$

$97 - 57 = 40$