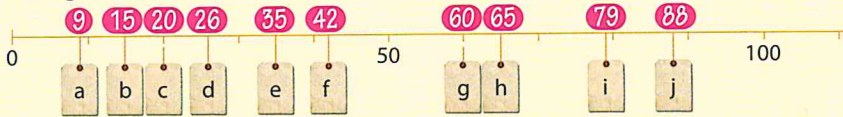


Les 4 Week 4

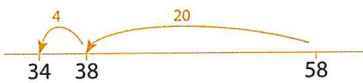
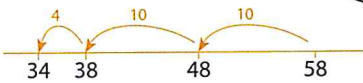
Blok 1

1 Welke getallen horen op de kaartjes?



2 Hoe reken jij? Spring op de lege getallenlijn.

$$58 - 24 = 34$$



$$73 - 40 = 33$$

$$60 - 28 = 32$$

$$47 - 15 = 32$$

$$86 - 24 = 62$$

Ik had 58 euro in de portemonnee.

24 euro uitgegeven.



3 Hoe reken jij? Gebruik de lege getallenlijn.

$$53 - 23 = 30$$

$$86 - 46 = 40$$

$$65 - 30 = 35$$

$$93 - 50 = 43$$

$$70 - 31 = 39$$

$$80 - 42 = 38$$


$$66 - 24 = 42$$

$$55 - 23 = 32$$

$$79 - 25 = 54$$

$$68 - 35 = 33$$

1 Maak de sommen.



$56 + 4 = 60$

$25 + 5 = 30$

$73 + 7 = 80$

$38 + 2 = 40$

$60 - 4 = 56$

$30 - 5 = 25$

$80 - 7 = 73$

$40 - 2 = 38$

$53 + 7 = 60$

$61 + 9 = 70$

$45 + 5 = 50$

$34 + 6 = 40$

$60 - 7 = 53$

$70 - 9 = 61$

$50 - 5 = 45$

$40 - 6 = 34$

2 Hoe reken jij? Gebruik de lege getallenlijn.

a _____
50

$50 + 28 = 78$

b _____
38

$38 + 20 = 58$

c _____
26

$26 + 14 = 40$

d _____
35

$35 + 12 = 47$

e _____
17

$17 + 25 = 42$

f _____
48

$48 + 37 = 85$



3 Maak de sommen. Hoe reken jij?

$40 + 23 = 63$

$60 + 35 = 95$

$59 + 21 = 80$

$37 + 13 = 50$

$57 + 35 = 92$

$52 + 30 = 82$

$28 + 20 = 48$

$44 + 27 = 71$

$63 + 37 = 100$

$50 + 18 = 68$

$57 + 40 = 97$

$68 + 17 = 85$

$71 + 10 = 81$

$34 + 46 = 80$

$46 + 39 = 85$

1 Splitsen.



12	
7	5
9	3
6	6
4	8
2	10

13	
6	7
8	5
3	10
9	4
2	11

14	
7	7
5	9
8	6
3	11
12	2



2 Reken handig.



3 Reken handig uit.

x	2	3	5
5	10	15	25
10	20	30	50
9	18	27	45
8	16	24	40
4	8	12	20

x	10	4	0
3	30	12	0
6	60	24	0
7	70	28	0
2	20	8	0
4	40	16	0

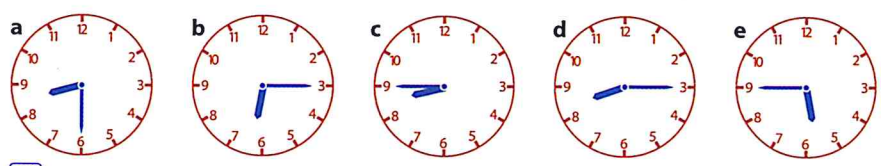


1 Hoe kan de piraat betalen?
Neem de tabellen over en vul in.



kan op nog meer manieren

2 Kwart over en kwart voor.



Ga verder met opgave 3, 4 en 5 op pagina 41 van je werkboek.

Les 4 Week 1

Blok 2

1 Tel terug met sprongen van 10.

44	54	64	74	84	94
23	33	43	53	63	73
39	49	59	69	79	89
18	28	38	48	58	68



2 Hoe reken jij? Gebruik de lege getallenlijn.

a	_____	53	$53 - 18 = 35$
b	_____	53	$53 - 13 = 40$
c	_____	74	$74 - 40 = 34$
d	_____	60	$60 - 28 = 32$
e	_____	43	$43 - 15 = 28$

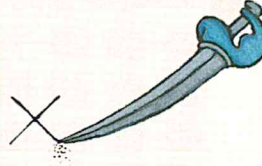


3 Maak de sommen. Hoe reken jij?


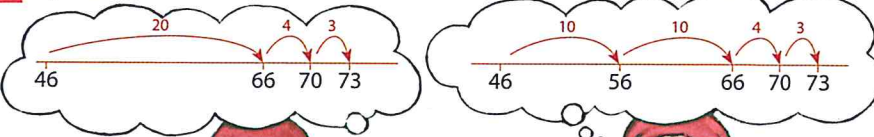
$46 - 16 = 30$	$38 - 18 = 20$	$87 - 39 = 48$
$57 - 20 = 37$	$72 - 13 = 59$	$81 - 24 = 57$
$50 - 17 = 33$	$70 - 23 = 47$	$90 - 42 = 48$
$53 - 15 = 38$	$61 - 30 = 31$	$84 - 50 = 34$
$36 - 18 = 18$	$55 - 37 = 18$	$73 - 33 = 40$

1 Maak de keersommen.

$10 \times 4 = 40$	$2 \times 4 = 8$	$10 \times 3 = 30$	$3 \times 4 = 12$
$9 \times 4 = 36$	$3 \times 4 = 12$	$9 \times 3 = 27$	$2 \times 3 = 6$
$8 \times 4 = 32$	$6 \times 4 = 24$	$3 \times 9 = 27$	$3 \times 3 = 9$
$4 \times 8 = 32$	$4 \times 6 = 24$	$8 \times 3 = 24$	$6 \times 3 = 18$
$4 \times 4 = 16$	$7 \times 4 = 28$	$4 \times 3 = 12$	$7 \times 3 = 21$



2 Optellen.



3 Maak de erbijssommen op jouw manier.

$50 + 43 = 93$	$56 + 35 = 91$	$68 + 13 = 81$
$48 + 22 = 70$	$57 + 15 = 72$	$46 + 47 = 93$
$37 + 30 = 67$	$44 + 16 = 60$	$19 + 23 = 42$
$60 + 28 = 88$	$59 + 40 = 99$	$43 + 48 = 91$
$82 + 18 = 100$	$34 + 36 = 70$	$58 + 37 = 95$

Les 2 Week 2

Blok 2

1 Reken uit.

$12 - 9 = 3$

$15 - 7 = 8$

$12 - 3 = 9$

$17 - 9 = 8$

$9 + 3 = 12$

$7 + 8 = 15$

$3 + 9 = 12$

$9 + 8 = 17$

$13 - 7 = 6$

$14 - 6 = 8$

$14 - 8 = 6$

$15 - 6 = 9$


$7 + 6 = 13$

$6 + 8 = 14$

$8 + 6 = 14$

$6 + 9 = 15$

2 Reken handig.



3 Reken handig uit.

$56 - 30 = 26$

$75 - 30 = 45$

$86 - 60 = 26$

$56 - 29 = 27$

$75 - 29 = 46$

$86 - 58 = 28$

$66 - 20 = 46$

$83 - 50 = 33$

$97 - 20 = 77$

$66 - 19 = 47$

$83 - 49 = 34$

$97 - 18 = 79$

$37 - 20 = 17$

$52 - 40 = 12$

$63 - 50 = 13$

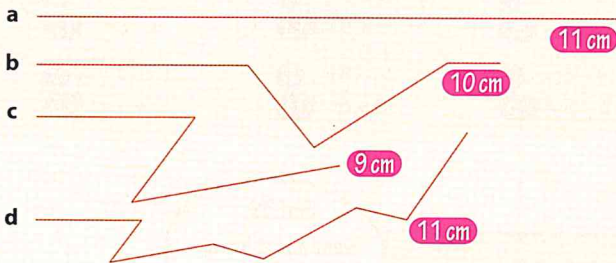
$37 - 19 = 18$

$52 - 39 = 13$


$63 - 48 = 15$



1 Welke lijnen zijn langer dan 10 cm? a en d



2 Hoeveel goudstukken krijgt elke piraat?

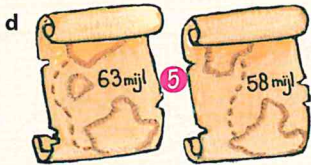
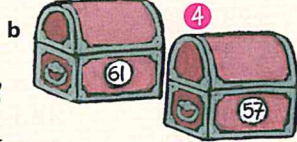



Ga verder met opgave 3 en 4 op pagina 43 van je werkboek.

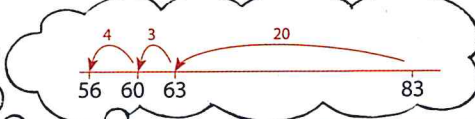
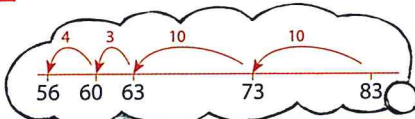
Les 4 Week 2

Blok 2

1 Hoeveel meer?

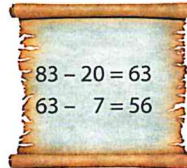



2 Aftrekken.



Hoi 83 goudstukken!!

Voor mij
27 goudstukken eraf!
Dan heb je er nog ongeveer
50 over.



3 Reken uit op jouw manier.

35 - 20 = 15
61 - 31 = 30
70 - 52 = 18
68 - 45 = 23
99 - 70 = 29

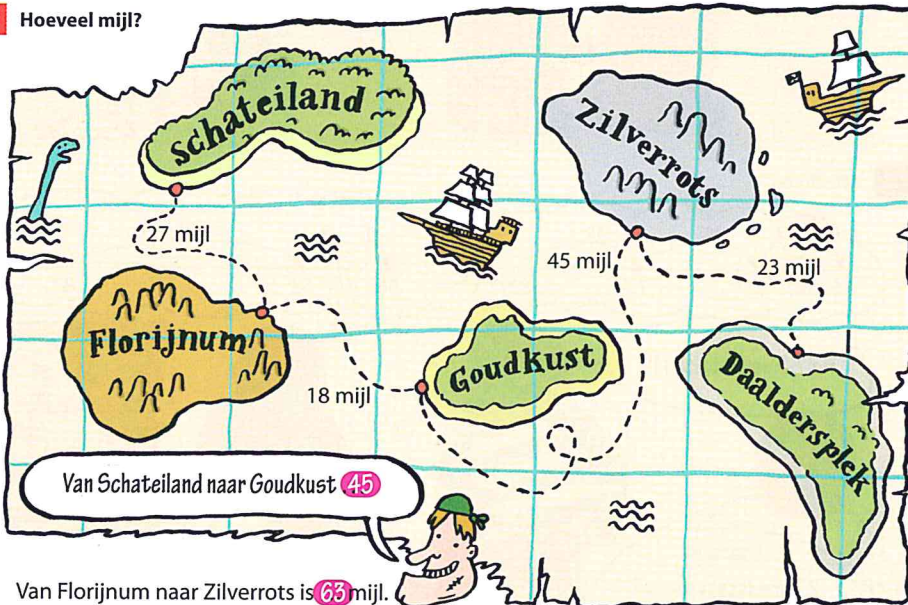
46 - 26 = 20
45 - 18 = 27
60 - 24 = 36
83 - 35 = 48
58 - 27 = 31

52 - 15 = 37
80 - 59 = 21
79 - 40 = 39
72 - 45 = 27
96 - 53 = 43

1 Maak de keersommen.

$3 \times 2 = 6$	$5 \times 3 = 15$	$6 \times 5 = 30$	$8 \times 4 = 32$
$6 \times 2 = 12$	$10 \times 3 = 30$	$3 \times 5 = 15$	$4 \times 4 = 16$
$7 \times 2 = 14$	$9 \times 3 = 27$	$4 \times 5 = 20$	$2 \times 4 = 8$
$10 \times 2 = 20$	$8 \times 3 = 24$	$8 \times 5 = 40$	$5 \times 4 = 20$
$9 \times 2 = 18$	$4 \times 3 = 12$	$9 \times 5 = 45$	$6 \times 4 = 24$

2 Hoeveel mijl?

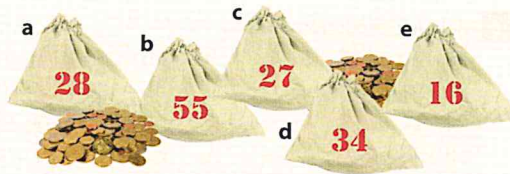


Van Florijnum naar Zilverrots is **63** mijl.

Van Daaldersplek naar Goudkust is **68** mijl.

3 Hoeveel goudstukken samen?

- a Schat a en b **83** goudstukken.
 Schat a en c **55** goudstukken.
 Schat b en c **82** goudstukken.
 Schat a en d **62** goudstukken.
 Schat c en e **43** goudstukken.
- b Bedenk zelf nog vijf sommen.



1 Maak de sommen.

$8 + 7 = 15$

$8 + 5 = 13$

$9 + 6 = 15$

$7 + 5 = 12$

$7 + 8 = 15$

$5 + 8 = 13$

$6 + 9 = 15$

$5 + 7 = 12$

$15 - 7 = 8$

$13 - 5 = 8$

$15 - 6 = 9$

$12 - 5 = 7$

$15 - 8 = 7$

$13 - 8 = 5$


$15 - 9 = 6$

$12 - 7 = 5$

2 Hoeveel goudstukken kost het?

Hoeveel kosten
7 zakken?

$7 \times 2 = 14$



Hoeveel kosten
6 pikhaken?




$6 \times 4 = 24$



$8 \times 3 = 24$

Hoeveel kosten
8 emmers?



$3 \times 5 = 15$

Hoeveel kosten
3 touwladders?

3 Hoeveel goudstukken kost het? Kijk bij opgave 2.

- a** 3 zakken scheepsbesluit **6**
 6 touwladders **30**
 5 emmers **15**
 9 pikhaken **36**
 6 zakken scheepsbesluit **12**

- b** 8 zakken scheepsbesluit **16**
 7 touwladders **35**
 10 emmers **30**
 3 pikhaken **12**
 5 zakken scheepsbesluit **10**



1 Hoe laat is het?



half 3



11 uur



kwart over 6



kwart over 12



kwart voor 7



half 3 's middags



5 uur 's middags



half 8 's avonds

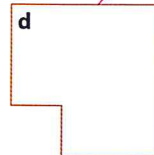
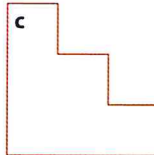


5 uur 's morgens



half 12 's morgens

2 Op welke plaats staan de schatkisten?



Ga verder met opgave 3, 4 en 5 op pagina 45 van je werkboek.

Les 4 Week 3

Blok 2

1 Hoeveel minder?



2 Hoeveel florijnen?



3 Hoeveel florijnen?

	15 florijnen minder
28 florijnen	13
41 florijnen	26
63 florijnen	48

	25 florijnen minder
37 florijnen	12
52 florijnen	27
94 florijnen	69

1 Maak de erafsommen.

$16 - 10 = 6$

$13 - 3 = 10$

$18 - 10 = 8$

$14 - 4 = 10$

$16 - 9 = 7$

$13 - 4 = 9$

$18 - 9 = 9$

$14 - 5 = 9$

$15 - 10 = 5$

$16 - 6 = 10$

$17 - 10 = 7$

$17 - 7 = 10$

$15 - 8 = 7$

$16 - 7 = 9$

$17 - 8 = 9$

$17 - 9 = 8$

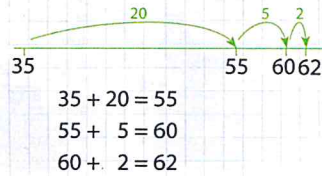
2 Hoeveel mensen samen?

Van de Eikenweg komen
35 mensen. En van de
Dennenlaan 27.

$$35 + 20 = 55$$

$$55 + 7 = 62$$

Dat wordt
vast gezellig!



3 Maak de erbijssommen.

$30 + 25 = 55$

$43 + 27 = 70$

$42 + 25 = 67$

$47 + 40 = 87$

$72 + 18 = 90$

$54 + 43 = 97$

$58 + 12 = 70$

$33 + 45 = 78$

$28 + 26 = 54$

$62 + 9 = 71$

$50 + 28 = 78$

$37 + 37 = 74$

$25 + 17 = 42$

$34 + 16 = 50$

$45 + 38 = 83$